

WYPEŁNIA UCZEŃ

KOD UCZNIKA

--	--	--

PESEL

--	--	--	--	--	--	--	--	--	--	--	--

Miejsce na naklejkę.

Sprawdź, czy kod na naklejce to

O-100.

Jeżeli tak – przyklej naklejkę.

Jeżeli nie – zgłoś to nauczycielowi.



Egzamin ósmoklasisty

Matematyka

DATA: **11 czerwca 2024 r.**GODZINA ROZPOCZĘCIA: **9:00**CZAS PRACY: **100 minut****Instrukcja dla ucznia**

1. Sprawdź, czy na kolejno ponumerowanych **18 stronach** jest wydrukowanych **19 zadań**.
2. Sprawdź, czy do arkusza jest dołączona karta odpowiedzi.
3. Ewentualny brak stron lub inne usterki zgłoś nauczycielowi.
4. Na tej stronie i na karcie odpowiedzi w wyznaczonych miejscach wpisz swój kod, numer PESEL i przyklej naklejkę z kodem.
5. Czytaj uważnie wszystkie zadania i wykonuj je zgodnie z poleceniami.
6. Rozwiązania zadań zapisuj długopisem lub piórem z czarnym tuszem/atramentem.
7. Nie używaj korektora.
8. Rozwiązania zadań **zamkniętych**, tj. **1–15**, zaznacz na karcie odpowiedzi zgodnie z informacjami zamieszczonymi na następnej stronie. Pamiętaj, że tylko rozwiązania przeniesione na kartę odpowiedzi będą oceniane. W każdym zadaniu poprawna jest zawsze **tylko jedna** odpowiedź.
9. Rozwiązania zadań **otwartych**, tj. **16–19**, zapisz czytelnie i starannie w wyznaczonych miejscach w arkuszu egzaminacyjnym.
10. Ewentualne poprawki w odpowiedziach zapisz zgodnie z informacjami zamieszczonymi na następnej stronie.
11. Zapisy w brudnopisie nie będą sprawdzane i oceniane.

Powodzenia!**WYPEŁNIA ZESPÓŁ NADZORUJĄCY**Uprawnienia
ucznia do:nieprzenoszenia odpowiedzi
na kartę odpowiedzidostosowania zasad
oceniań.OMAP-**100**-2406

Zapoznaj się z poniższymi informacjami

1. Jak na karcie odpowiedzi zaznaczyć poprawną odpowiedź oraz pomyłkę w zadaniach zamkniętych?

Staraj się nie popełniać błędów przy zaznaczaniu odpowiedzi, ale jeśli się pomylisz, błędne zaznaczenie otocz kółkiem i zaznacz inną odpowiedź, np.



Poprawna odpowiedź w zadaniu	Układ możliwych odpowiedzi na karcie odpowiedzi	Sposób zaznaczenia poprawnej odpowiedzi	Sposób zaznaczenia pomyłki i poprawnej odpowiedzi																		
C	<table border="1"><tr><td>A</td><td>B</td><td>C</td><td>D</td></tr></table>	A	B	C	D	<table border="1"><tr><td>A</td><td>B</td><td>■</td><td>D</td></tr></table>	A	B	■	D	<table border="1"><tr><td>○</td><td>B</td><td>■</td><td>D</td></tr></table>	○	B	■	D						
A	B	C	D																		
A	B	■	D																		
○	B	■	D																		
AD	<table border="1"><tr><td>AC</td><td>AD</td><td>BC</td><td>BD</td></tr></table>	AC	AD	BC	BD	<table border="1"><tr><td>AC</td><td>■</td><td>BC</td><td>BD</td></tr></table>	AC	■	BC	BD	<table border="1"><tr><td>AC</td><td>■</td><td>BC</td><td>○</td></tr></table>	AC	■	BC	○						
AC	AD	BC	BD																		
AC	■	BC	BD																		
AC	■	BC	○																		
FP	<table border="1"><tr><td>PP</td><td>PF</td><td>FP</td><td>FF</td></tr></table>	PP	PF	FP	FF	<table border="1"><tr><td>PP</td><td>PF</td><td>■</td><td>FF</td></tr></table>	PP	PF	■	FF	<table border="1"><tr><td>PP</td><td>○</td><td>■</td><td>FF</td></tr></table>	PP	○	■	FF						
PP	PF	FP	FF																		
PP	PF	■	FF																		
PP	○	■	FF																		
A3	<table border="1"><tr><td>A1</td><td>A2</td><td>A3</td><td>B1</td><td>B2</td><td>B3</td></tr></table>	A1	A2	A3	B1	B2	B3	<table border="1"><tr><td>A1</td><td>A2</td><td>■</td><td>B1</td><td>B2</td><td>B3</td></tr></table>	A1	A2	■	B1	B2	B3	<table border="1"><tr><td>A1</td><td>A2</td><td>■</td><td>B1</td><td>○</td><td>B3</td></tr></table>	A1	A2	■	B1	○	B3
A1	A2	A3	B1	B2	B3																
A1	A2	■	B1	B2	B3																
A1	A2	■	B1	○	B3																

2. Jak zaznaczyć pomyłkę i zapisać poprawną odpowiedź w zadaniach otwartych?

Jeśli się pomylisz, zapisując odpowiedź w zadaniu otwartym, pomyłkę przekreśl i napisz poprawną odpowiedź, np.

nad niepoprawnym fragmentem

64 cm²


Pole kwadratu jest równe ~~100 cm²~~.

lub obok niego

Pole kwadratu jest równe ~~100 cm²~~ 64 cm²

Zadania egzaminacyjne są wydrukowane na kolejnych stronach.

Brudnopis (*nie podlega ocenie*)



Zadanie 4. (0–1)

W pudełku są kulki czerwone, zielone i niebieskie. Kulek czerwonych jest trzy razy więcej niż zielonych i o dwie mniej niż niebieskich.

Uzupełnij zdania. Wybierz odpowiedź spośród oznaczonych literami A i B oraz odpowiedź spośród oznaczonych literami C i D.

W pudełku najmniej jest kulek

A	B
---	---

.

A. niebieskich B. zielonych

Jeśli liczbę kulek zielonych oznaczymy przez x , to liczbę wszystkich kulek w pudełku opisuje wyrażenie

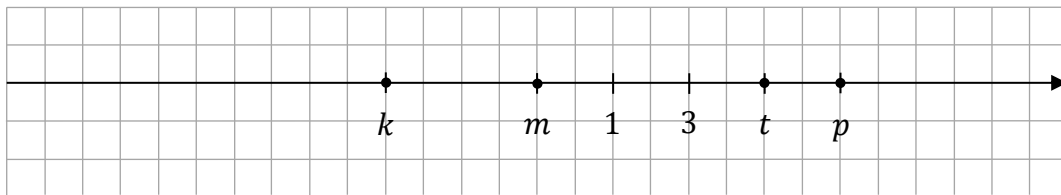
C	D
---	---

.

C. $7x - 2$ D. $7x + 2$

Zadanie 5. (0–1)

Na osi liczbowej zaznaczono sześć liczb całkowitych. Cztery z tych liczb oznaczono literami: k , m , t , p .



Które z poniższych wyrażień ma wartość równą 1? Wybierz właściwą odpowiedź spośród podanych.

A. $k + p$ B. $k + m + t$ C. $k + t$ D. $k + m + p$


Zadanie 6. (0–1)

Czy liczba 27 733 jest podzielna przez 3? Wybierz odpowiedź A albo B i jej uzasadnienie spośród 1., 2. albo 3.

A.	Tak,	ponieważ	1.	cyfrą jedności tej liczby jest 3.
			2.	suma cyfr tej liczby nie jest podzielna przez 3.
B.	Nie,		3.	dwie ostatnie cyfry tej liczby tworzą liczbę podzielną przez 3.

PRZENIEŚ ROZWIĄZANIA ZADAŃ NA KARTĘ ODPOWIEDZI!

Brudnopis (*nie podlega ocenie*)



Zadanie 7. (0–1)

Kąty α , β , γ pewnego trójkąta spełniają dwa warunki: $\alpha + \beta = 130^\circ$ i $\alpha + \gamma = 120^\circ$.

Oceń prawdziwość podanych zdań. Wybierz P, jeśli zdanie jest prawdziwe, albo F – jeśli jest fałszywe.

Kąt α ma miarę 70° .	P	F
Różnica miar między kątem największym a kątem najmniejszym w tym trójkącie jest równa 20° .	P	F

Zadanie 8. (0–1)

W pewnym opakowaniu są płatki owsiane z rodzynkami. Masa zawartości tego opakowania jest równa 320 g, przy czym 15% tej masy stanowią rodzynki. Ola zmieszała całą zawartość tego opakowania z 80 g orzechów.

Uzupełnij zdania. Wybierz odpowiedź spośród oznaczonych literami A i B oraz odpowiedź spośród oznaczonych literami C i D.

W mieszance przygotowanej przez Olę masa orzechów jest większa o

A	B
---	---

 od masy rodzynek.

A. 32 g B. 48 g

Mieszanka przygotowana przez Olę zawiera

C	D
---	---

 orzechów.

C. 20% D. 25%

Zadanie 9. (0–1)


Antek jest zawodnikiem szkolnej drużyny koszykówki. Od początku sezonu jego drużyna zagrała w sześciu meczach. Antek w tych sześciu meczach zdobył łącznie 84 punkty.

Oceń prawdziwość podanych zdań. Wybierz P, jeśli zdanie jest prawdziwe, albo F – jeśli jest fałszywe.

Średnia liczby punktów zdobytych przez Antka w jednym meczu jest równa 14.	P	F
Średnia liczby punktów zdobytych przez Antka w jednym meczu będzie równa 15, jeśli w siódmym meczu zdobędzie on 21 punktów.	P	F

PRZENIEŚ ROZWIĄZANIA ZADAŃ NA KARTĘ ODPOWIEDZI!

Brudnopis (*nie podlega ocenie*)



Zadanie 10. (0–1)

Uzupełnij zdania. Wybierz odpowiedź spośród oznaczonych literami A i B oraz odpowiedź spośród oznaczonych literami C i D.

Liczba $\sqrt{6\frac{1}{4}}$ jest równa

A	B
---	---

.

A. $2\frac{1}{2}$

B. $3\frac{1}{2}$

Liczba $\sqrt[3]{0,064}$ jest równa

C	D
---	---

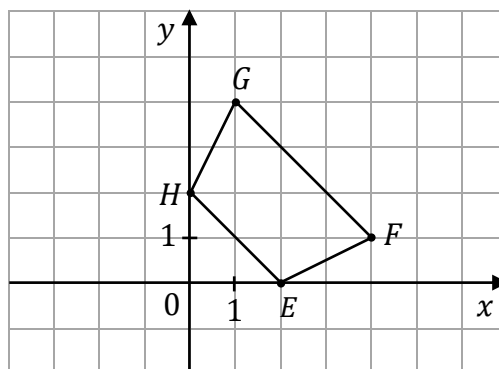
.

C. 0,4

D. 0,8

Zadanie 11. (0–1)

W układzie współrzędnych (x, y) narysowano trapez $EFGH$. Wszystkie współrzędne wierzchołków E , F , G i H są liczbami całkowitymi.



Dokończ zdanie. Wybierz właściwą odpowiedź spośród podanych.

Punkty o współrzędnych $(1, 4)$ i $(2, 0)$ to wierzchołki

A. G i H

B. G i E

C. F i H

D. F i E

Zadanie 12. (0–1)

Na planie miasta wykonanym w skali 1: 5000 odległość w linii prostej między punktem oznaczającym wejście do papugarni a punktem oznaczającym wejście do muzeum zabawek jest równa 8,4 cm.

Dokończ zdanie. Wybierz właściwą odpowiedź spośród podanych.

W terenie odległość między wejściami do tych obiektów jest w linii prostej równa

A. 4,2 m


B. 42 m

C. 420 m

D. 4200 m

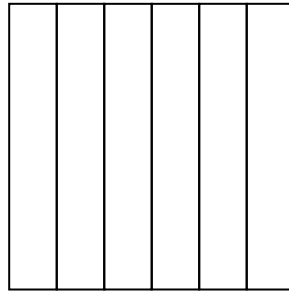
PRZENIEŚ ROZWIĄZANIA ZADAŃ NA KARTĘ ODPOWIEDZI!

Brudnopis (*nie podlega ocenie*)



Zadanie 13. (0–1)

Na rysunku przedstawiono kwadrat podzielony na 6 jednakowych prostokątów. Obwód każdego z tych prostokątów jest równy 28.



Dokończ zdanie. Wybierz właściwą odpowiedź spośród podanych.

Obwód kwadratu jest równy

- A. 48 B. 84 C. 96 D. 144

Zadanie 14. (0–1)

Działka ma powierzchnię 200 arów. Warzywa zajmują 130 arów, jabłonie rosną na $\frac{1}{5}$ pozostałej części działki, a resztę działki zajmują śliwy.

Dokończ zdanie. Wybierz właściwą odpowiedź spośród podanych.

Śliwy zajmują powierzchnię

- A. 14 arów. B. 30 arów. C. 56 arów. D. 70 arów.

Zadanie 15. (0–1)


W pudełku są klocki w kształcie ostrosłupów trójkątnych i sześcianów. Klocków w kształcie ostrosłupów trójkątnych jest trzy razy więcej niż klocków sześciennych. Wszystkie klocki mają łącznie 720 krawędzi.

Ile klocków w kształcie sześcianu jest w tym pudełku? Wybierz właściwą odpowiedź spośród podanych.

- A. 24 B. 30 C. 39 D. 40

PRZENIEŚ ROZWIĄZANIA ZADAŃ NA KARTĘ ODPOWIEDZI!

Brudnopis (*nie podlega ocenie*)




Zadanie 17. (0–3)

Jednakowe kubki sprzedawane są w dwóch rodzajach opakowań – małych i dużych.


W małym opakowaniu jest dwa razy mniej kubków niż w dużym.

W dwóch dużych opakowaniach i sześciu małych znajduje się łącznie 140 kubków.

Oblicz, ile kubków jest w sześciu dużych opakowaniach. Zapisz obliczenia.



Brudnopis (*nie podlega ocenie*)



MATEMATYKA

Egzamin ósmoklasisty



MATEMATYKA

Egzamin ósmoklasisty



MATEMATYKA

Egzamin ósmoklasisty

