

WYPEŁNIA UCZEŃ**KOD UCZNI**

--	--	--

PESEL

--	--	--	--	--	--	--	--	--	--	--	--	--	--	--	--	--	--

Miejsce na naklejkę.

Sprawdź, czy kod na naklejce to

O-100.

Jeżeli tak – przyklej naklejkę.

Jeżeli nie – zgłoś to nauczycielowi.



Próbnny egzamin ósmoklasisty

Matematyka

DATA: **13 stycznia 2026 r.**GODZINA ROZPOCZĘCIA: **9:00**CZAS PRACY: **125 minut****Instrukcja dla ucznia**

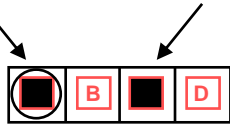
1. Ze środka arkusza wyrwij **kartę rozwiązań zadań otwartych** (tj. 4 środkowe kartki).
2. Sprawdź, czy na kolejno ponumerowanych **15 stronach** zeszytu zadań jest wydrukowanych **20 zadań** oraz czy jest do niego dołączona karta odpowiedzi.
3. Sprawdź, czy **karta rozwiązań zadań otwartych** zawiera kolejno ponumerowanych **8 stron**.
4. Ewentualny brak stron lub inne usterki zgłoś nauczycielowi.
5. Na tej stronie, na **karcie rozwiązań zadań otwartych** i na karcie odpowiedzi w wyznaczonych miejscach wpisz swój kod, numer PESEL i przyklej naklejkę z kodem.
6. Czytaj uważnie wszystkie zadania i wykonuj je zgodnie z poleceniami.
7. Rozwiązania zadań zapisuj długopisem lub piórem z czarnym tuszem/atramentem.
8. Nie używaj korektora.
9. Rozwiązania zadań **zamkniętych**, tj. **1–14**, zaznacz na karcie odpowiedzi zgodnie z informacjami zamieszczonymi na następnej stronie. W każdym zadaniu poprawna jest zawsze **tylko jedna** odpowiedź.
10. Rozwiązania zadań **otwartych**, tj. **15–20**, zapisz czytelnie i starannie w wyznaczonych miejscach na **karcie rozwiązań zadań otwartych**.
11. Ewentualne poprawki w odpowiedziach zapisz zgodnie z informacjami zamieszczonymi na następnej stronie.
12. Zapisy w brudnopisie nie będą sprawdzane i oceniane.

Powodzenia!OMAP-**100**-2602

Zapoznaj się z poniższymi informacjami

1. Jak na karcie odpowiedzi zaznaczyć poprawną odpowiedź oraz pomyłkę w zadaniach zamkniętych?

Staraj się nie popełniać błędów przy zaznaczaniu odpowiedzi, ale jeśli się pomylisz, błędne zaznaczenie otocz kółkiem i zaznacz inną odpowiedź, np.



Poprawna odpowiedź w zadaniu	Układ możliwych odpowiedzi na karcie odpowiedzi	Sposób zaznaczenia poprawnej odpowiedzi	Sposób zaznaczenia pomyłki i poprawnej odpowiedzi												
C	<table border="1"><tr><td>A</td><td>B</td><td>C</td><td>D</td></tr></table>	A	B	C	D	<table border="1"><tr><td>A</td><td>B</td><td>■</td><td>D</td></tr></table>	A	B	■	D	<table border="1"><tr><td>○</td><td>B</td><td>■</td><td>D</td></tr></table>	○	B	■	D
A	B	C	D												
A	B	■	D												
○	B	■	D												
AD	<table border="1"><tr><td>AC</td><td>AD</td><td>BC</td><td>BD</td></tr></table>	AC	AD	BC	BD	<table border="1"><tr><td>AC</td><td>■</td><td>BC</td><td>BD</td></tr></table>	AC	■	BC	BD	<table border="1"><tr><td>AC</td><td>■</td><td>BC</td><td>○</td></tr></table>	AC	■	BC	○
AC	AD	BC	BD												
AC	■	BC	BD												
AC	■	BC	○												
FP	<table border="1"><tr><td>PP</td><td>PF</td><td>FP</td><td>FF</td></tr></table>	PP	PF	FP	FF	<table border="1"><tr><td>PP</td><td>PF</td><td>■</td><td>FF</td></tr></table>	PP	PF	■	FF	<table border="1"><tr><td>PP</td><td>○</td><td>■</td><td>FF</td></tr></table>	PP	○	■	FF
PP	PF	FP	FF												
PP	PF	■	FF												
PP	○	■	FF												

2. Jak na **karcie rozwiązań zadań otwartych** zaznaczyć pomyłkę i zapisać poprawną odpowiedź w zadaniach otwartych?

Jeśli się pomylisz, zapisując odpowiedź w zadaniu otwartym, pomyłkę przekreśl i napisz poprawną odpowiedź, np.

nad niepoprawnym fragmentem

64 cm²

Pole kwadratu jest równe ~~100 cm²~~.

lub obok niego

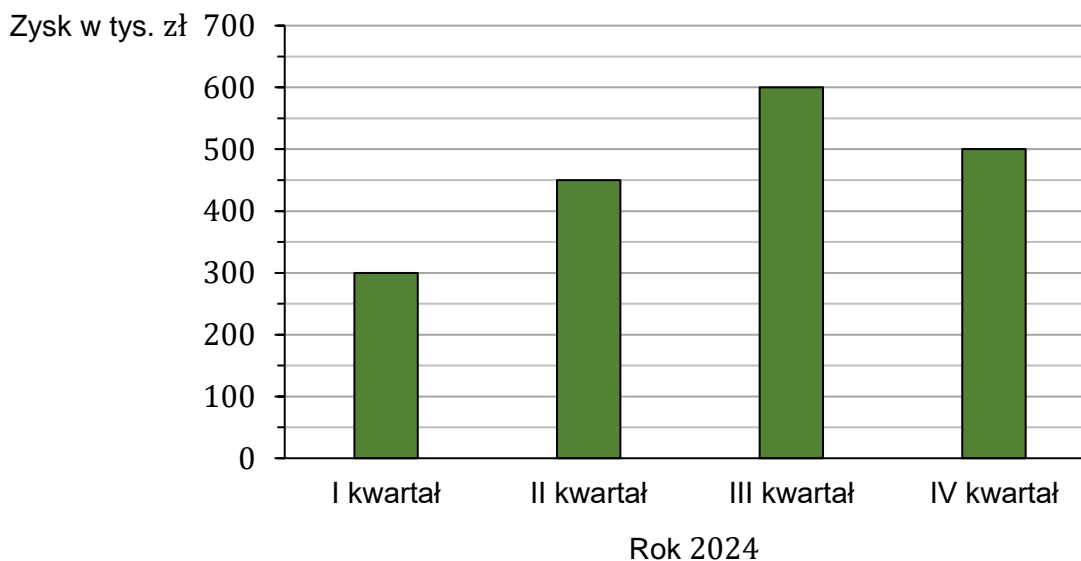
Pole kwadratu jest równe ~~100 cm²~~ 64 cm²

3. Pamiętaj, że tylko rozwiązania przeniesione na kartę odpowiedzi i zapisane na **karcie rozwiązań zadań otwartych** będą oceniane.

Zadania egzaminacyjne są wydrukowane na następnych stronach.

Zadanie 1. (0–1)

Na diagramie przedstawiono zysk pewnej firmy w kolejnych kwartałach 2024 roku.



Oceń prawdziwość podanych zdań. Wybierz P, jeśli zdanie jest prawdziwe, albo F – jeśli jest fałszywe.

Zysk tej firmy w I kwartale stanowi $\frac{1}{6}$ zysku z całego roku 2024.	P	F
Zysk tej firmy w drugim półroczu 2024 roku był o 350 tysięcy złotych większy niż jej zysk w pierwszym półroczu 2024 roku.	P	F

Zadanie 2. (0–1)

Dokończ zdanie. Wybierz właściwą odpowiedź spośród podanych.

Wartość wyrażenia $4^3 - 8^2 : 2^4$ jest równa

- A. 0 B. 10 C. 56 D. 60

Zadanie 3. (0–1)

Dane jest wyrażenie

$$\left(0,75 \cdot 8 + 8 \cdot \frac{1}{2}\right) : (-2)$$


Dokończ zdanie. Wybierz właściwą odpowiedź spośród podanych.

Wartość tego wyrażenia jest równa

- A. -5 B. -3,5 C. 3,5 D. 5

PRZENIEŚ ROZWIĄZANIA ZADAŃ NA KARTĘ ODPOWIEDZI!

Brudnopis (*nie podlega ocenie*)



Zadanie 4. (0–1)

Uczniowie trzech klas: 8A, 8B i 8C, zebrali łącznie 132,9 kg makulatury. Uczniowie klas 8A i 8B zebrali łącznie 90,6 kg makulatury, a uczniowie klas 8B i 8C zebrali łącznie 86,8 kg makulatury.

Ile kilogramów makulatury zebrali uczniowie klasy 8B? Wybierz właściwą odpowiedź spośród podanych.

- A. 43,4 B. 44,3 C. 44,5 D. 47,2

Zadanie 5. (0–1)

Uzupełnij zdania. Wybierz odpowiedź spośród oznaczonych literami A i B oraz odpowiedź spośród oznaczonych literami C i D.

Równość $3a - 4 = a + 2$ jest spełniona dla liczby a równej

A	B
---	---

.

- A. 3 B. 1

Wyrażenie $(3a - 4) - (a + 2)$ jest równe

C	D
---	---

.

- C. $2a - 2$ D. $2a - 6$

Zadanie 6. (0–1)

Aleks kupił jeden komplet słuchawek bezprzewodowych, dwie jednakowe ładowarki i dwa jednakowe dyski USB. Jeden dysk USB był 2 razy tańszy od ładowarki, a komplet słuchawek bezprzewodowych był 4 razy droższy od jednej ładowarki.

Dokończ zdanie. Wybierz właściwą odpowiedź spośród podanych.

Jeżeli przez x oznaczymy cenę jednej ładowarki, to wartość zakupów Aleksa opiszemy wyrażeniem

- A. $10,5x$ B. $7x$ C. $6,5x$ D. $6x$

Zadanie 7. (0–1)

Dane są trzy liczby: $x = 5,27 \cdot 10^{-3}$, $y = 0,0023$, $z = 1400 \cdot 10^{-5}$.

Uporządkowano te liczby w kolejności od najmniejszej do największej.


Który zapis przedstawia poprawny sposób uporządkowania liczb x , y , z ?

Wybierz właściwą odpowiedź spośród podanych.

- A. $x < y < z$ B. $y < x < z$ C. $z < y < x$ D. $x < z < y$

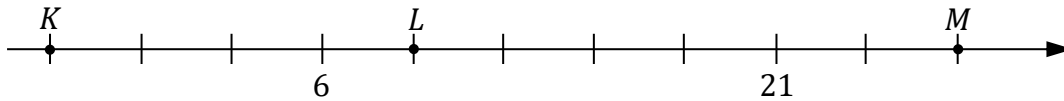
PRZENIEŚ ROZWIĄZANIA ZADAŃ NA KARTĘ ODPOWIEDZI!

Brudnopis (*nie podlega ocenie*)



Zadanie 8. (0–1)

Na osi liczbowej zaznaczono punkty K , L i M . Odcinek KM jest podzielony na 10 równych części (zobacz rysunek).



Z liczb, które są współrzędnymi punktów K , L i M , utworzono sumy:

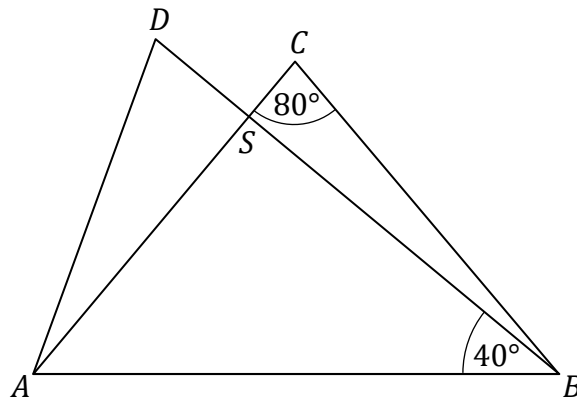
- I. $K + L + M$ II. $K + L$ III. $K + M$ IV. $L + M$

Która z utworzonych sum jest liczbą podzielną przez 9? Wybierz właściwą odpowiedź spośród podanych.

- A. I B. II C. III D. IV

Zadanie 9. (0–1)

Trójkąty ABC i ABD są równoramienne. Miara kąta między ramionami trójkąta ABC jest równa 80° , a miara kąta między ramionami trójkąta ABD jest równa 40° . Punkt S jest punktem przecięcia odcinków AC i BD (zobacz rysunek).



Uzupełnij zdania. Wybierz odpowiedź spośród oznaczonych literami A i B oraz odpowiedź spośród oznaczonych literami C i D.

Kąt ASB jest

A	B
---	---

.

A. ostry

B. prosty

Miara kąta DAC jest równa

C	D
---	---


.

C. 20°


D. 40°

PRZENIEŚ ROZWIĄZANIA ZADAŃ NA KARTĘ ODPOWIEDZI!

Brudnopis (*nie podlega ocenie*)



Brudnopis (*nie podlega ocenie*)



Informacja do zadań 13.–14.

Adam zbudował dwa prostopadłościany. Pierwszy prostopadłościan ma wymiary 5, 6, 10. Drugi prostopadłościan ma wymiary 6, 6, 10.

Zadanie 13. (0–1)

Uzupełnij zdania. Wybierz odpowiedź spośród oznaczonych literami A i B oraz odpowiedź spośród oznaczonych literami C i D.

Objętość pierwszego prostopadłościanu jest równa

A	B
---	---

.

A. 300 B. 600

Różnica objętości tych prostopadłościanów jest równa

C	D
---	---

.

C. 60 D. 120

Zadanie 14. (0–1)

Adam ustawił te prostopadłościany jeden na drugim tak, że powstał większy prostopadłościan.


Dokończ zdanie. Wybierz właściwą odpowiedź spośród podanych.

Pole powierzchni całkowitej otrzymanego prostopadłościanu jest równe

A. 412 B. 472 C. 532 D. 592


PRZENIEŚ ROZWIĄZANIA ZADAŃ NA KARTĘ ODPOWIEDZI!

Brudnopis (*nie podlega ocenie*)




Zadanie 15. (0–2)

**ZADANIE 15. ZNAJDUJE SIĘ NA KARCIE ROZWIĄZAŃ ZADAŃ OTWARTYCH.
WYKONAJ TO ZADANIE W WYZNACZONYM MIEJSCU NA KARCIE ROZWIĄZAŃ ZADAŃ
OTWARTYCH.**




Zadanie 16. (0–3)

**ZADANIE 16. ZNAJDUJE SIĘ NA KARCIE ROZWIĄZAŃ ZADAŃ OTWARTYCH.
WYKONAJ TO ZADANIE W WYZNACZONYM MIEJSCU NA KARCIE ROZWIĄZAŃ ZADAŃ
OTWARTYCH.**




Zadanie 17. (0–3)

**ZADANIE 17. ZNAJDUJE SIĘ NA KARCIE ROZWIĄZAŃ ZADAŃ OTWARTYCH.
WYKONAJ TO ZADANIE W WYZNACZONYM MIEJSCU NA KARCIE ROZWIĄZAŃ ZADAŃ
OTWARTYCH.**




Zadanie 18. (0–2)

**ZADANIE 18. ZNAJDUJE SIĘ NA KARCIE ROZWIĄZAŃ ZADAŃ OTWARTYCH.
WYKONAJ TO ZADANIE W WYZNACZONYM MIEJSCU NA KARCIE ROZWIĄZAŃ ZADAŃ
OTWARTYCH.**




Zadanie 19. (0–3)

**ZADANIE 19. ZNAJDUJE SIĘ NA KARCIE ROZWIĄZAŃ ZADAŃ OTWARTYCH.
WYKONAJ TO ZADANIE W WYZNACZONYM MIEJSCU NA KARCIE ROZWIĄZAŃ ZADAŃ
OTWARTYCH.**



Zadanie 20. (0–3)

**ZADANIE 20. ZNAJDUJE SIĘ NA KARCIE ROZWIĄZAŃ ZADAŃ OTWARTYCH.
WYKONAJ TO ZADANIE W WYZNACZONYM MIEJSCU NA KARCIE ROZWIĄZAŃ ZADAŃ
OTWARTYCH.**



Brudnopis (*nie podlega ocenie*)

