

Miejsce
na naklejkę
z kodem szkoły

dysleksja

MBI-P1A1P-062

EGZAMIN MATURALNY Z BIOLOGII

Arkusz I

POZIOM PODSTAWOWY

Czas pracy 120 minut

ARKUSZ I

MAJ
ROK 2006

Instrukcja dla zdającego

1. Sprawdź, czy arkusz egzaminacyjny zawiera 14 stron (zadania 1 – 29). Ewentualny brak zgłoś przewodniczącemu zespołu nadzorującego egzamin.
2. Odpowiedzi zapisz czytelnie w miejscu na to przeznaczonym przy każdym zadaniu.
3. Pisz czytelnie. Używaj długopisu/pióra tylko z czarnym tuszem/atramentem.
4. Nie używaj korektora, a błędne zapisy wyraźnie przekreśl.
5. Pamiętaj, że zapisy w brudnopisie nie podlegają ocenie.
6. Podczas egzaminu możesz korzystać z ołówka i gumki (wyłącznie do rysunków) oraz linijki.
7. Wypełnij tę część karty odpowiedzi, którą koduje zdający. Nie wpisuj żadnych znaków w części przeznaczonej dla egzaminatora.
8. Na karcie odpowiedzi wpisz swoją datę urodzenia i PESEL. Zamaluj pola odpowiadające cyfrom numeru PESEL. Błędne zaznaczenie otocz kółkiem i zaznacz właściwe.

Życzymy powodzenia!

Za rozwiązanie
wszystkich zadań
można otrzymać
łącznie
50 punktów

Wypełnia zdający przed
rozpoczęciem pracy

--	--	--	--	--	--	--	--	--	--	--	--	--	--	--	--	--	--	--	--

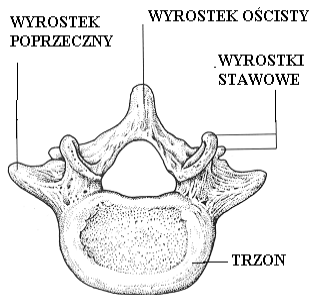
PESEL ZDAJĄCEGO

--	--	--	--

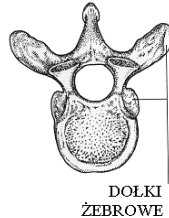
KOD
ZDAJĄCEGO

Zadanie 1. (3 pkt)

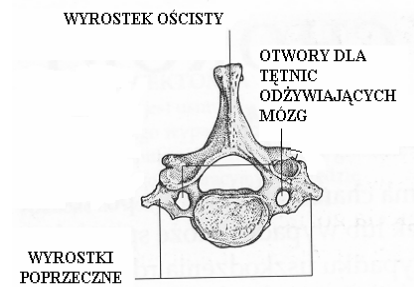
Rysunki A, B i C przedstawiają trzy różne rodzaje kręgów kręgosłupa człowieka.



A



B



C

Podaj nazwy odcinków kręgosłupa, do których należy każdy z kręgów oraz uzasadnij, która cecha budowy umożliwiła Ci jego identyfikację.

A –

B –

C –

Zadanie 2. (1 pkt)

Jedną z cech mięśni gładkich jest zdolność do długotrwałego skurczu niezależnego od woli.

Podaj dwa przykłady narządów w organizmie człowieka, w których występują mięśnie gładkie.

.....

Zadanie 3. (2 pkt)

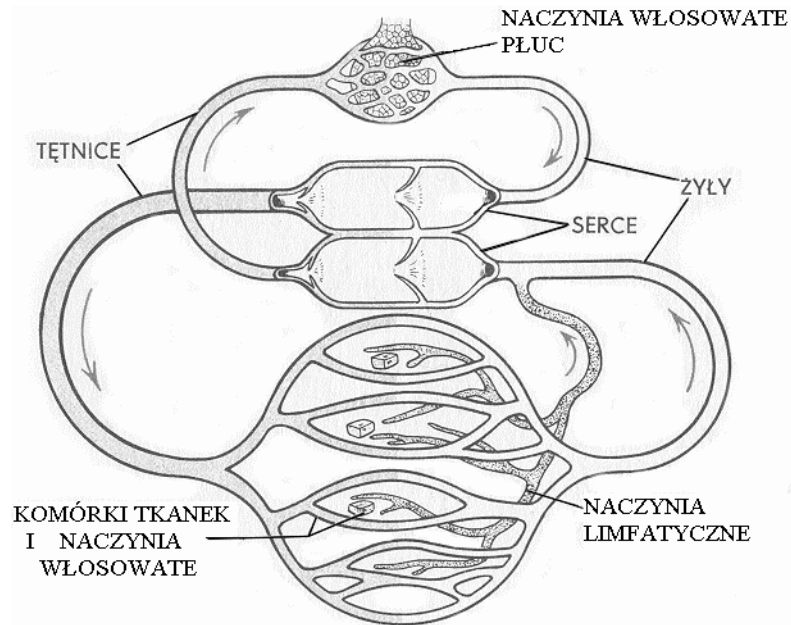
Wpływ wysiłku fizycznego na pracę układu oddechowego można zaobserwować podczas lekcji wychowania fizycznego, kiedy uczniowie biegną na 60 m.

Zaplanuj obserwację wpływu wysiłku fizycznego na układ oddechowy, podając parametr, który będzie obserwowany i sposób przeprowadzenia obserwacji.

.....

Zadanie 4. (2 pkt)

Rysunek przedstawia schematycznie sposób krążenia krwi i limfy w organizmie człowieka.



Podaj dwie, widoczne na schemacie, cechy budowy różniące układ krwionośny od limfatycznego.

.....

.....

.....

.....

Zadanie 5. (2 pkt)

Podczas powstawania moczu w nerkach glukoza jest transportowana z nakładem energii z wnętrza kanalików nerkowych do naczyń krwionośnych (wchłanianie zwrotne).

a) Uzasadnij, czy transport glukozy z kanalików nerkowych do naczyń krwionośnych jest aktywny, czy bierny.

.....

.....

b) Określ konsekwencje wchłaniania zwrotnego glukozy dla składu moczu zdrowego człowieka.

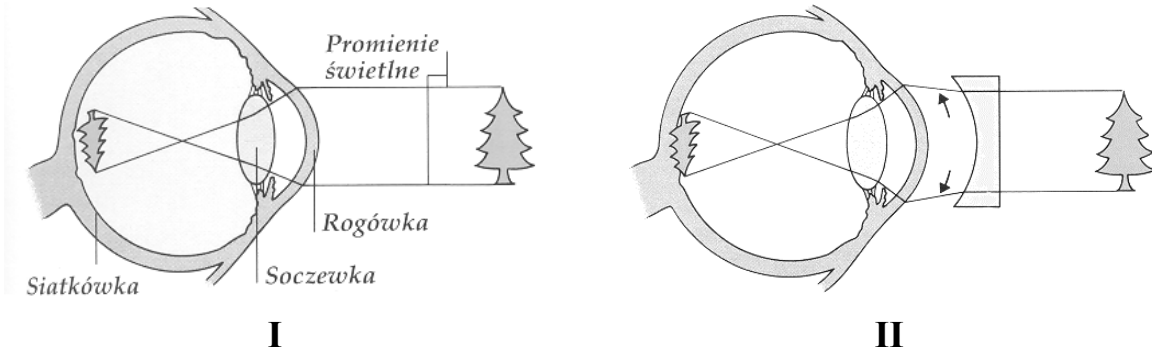
.....

.....

Wypełnia egzaminator!	Nr zadania	1.	2.	3.	4.	5.
	Maks. liczba pkt	3	1	2	2	2
	Uzyskana liczba pkt					

Zadanie 6. (2 pkt)

Rysunek I w uproszczony sposób przedstawia wadę wzroku – krótkowzroczność, a rysunek II – sposób jej korygowania.



Korzystając z informacji przedstawionych na rysunkach, opisz, na czym polega krótkowzroczność i sposób korygowania tej wady wzroku.

.....

.....

.....

.....

.....

Zadanie 7. (2 pkt)

W gardle krzyżują się dwie drogi: pokarmowa z oddechową. Wejście z gardła do krtani otwiera lub zamyka ruchoma chrząstka tzw. nagłośnia.

Wyjaśnij związek przestrogi: „Nie rozmawiaj przy jedzeniu!” z funkcją nagłośni.

.....

.....

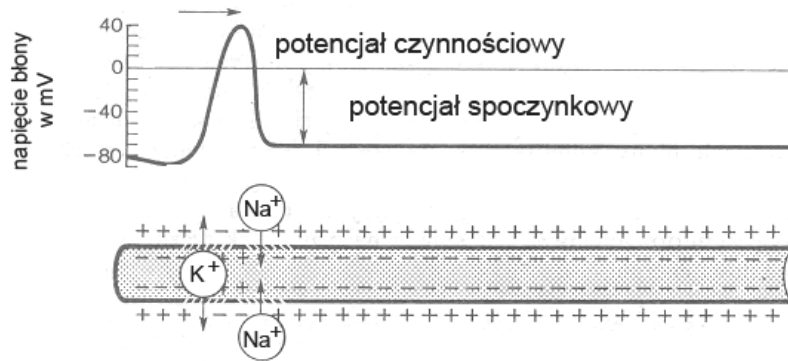
.....

.....

.....

Zadanie 8. (1 pkt)

Rysunek ilustruje funkcjonowanie błony neuronu.



Korzystając z informacji przedstawionych na rysunku wyjaśnij, w jaki sposób w błonie neuronu powstaje potencjał czynnościowy.

.....

.....

.....

.....

Zadanie 9. (2 pkt)

Ze względu na wielkość dziennego zapotrzebowania pokarmowego jod zaliczany jest do mikroelementów.

Podaj przykład pokarmu będącego źródłem jodu oraz określ rolę, jaką ten pierwiastek pełni w organizmie człowieka.

.....

.....

Zadanie 10. (2 pkt)

Dzięki różnicowaniu właściwości leukocytów organizm dysponuje dwoma rodzajami odporności: komórkową i humoralną.

Podaj, na czym polega odporność komórkowa a na czym humoralna, wykorzystując określenia: fagocytoza, przeciwciała.

.....

.....

.....

.....

Wypełnia egzaminator!	Nr zadania	6.	7.	8.	9.	10.
	Maks. liczba pkt	2	2	1	2	2
	Uzyskana liczba pkt					

Zadanie 11. (1 pkt)

Tabela przedstawia zawartość wody w organizmie człowieka w różnych okresach jego życia.

Okres życia	Wiek	Zawartość wody w organizmie w % masy ciała	
		kobieta	mężczyzna
I	0–1 miesiąc	76	
II	1–12 miesięcy	65	
III	1–10 lat	62	
IV	11–16 lat	59	57
V	17–39 lat	61	50
VI	powyżej 40 lat	55	47

Podaj oznaczenia dwóch kolejnych okresów życia człowieka, między którymi następuje największy spadek zawartości wody w organizmie.

.....

Zadanie 12. (2 pkt)

Barwnik skóry – melanina chroni organizm człowieka przed szkodliwym wpływem emitowanego przez słońce promieniowania ultrafioletowego. Jednocześnie odpowiednia dawka tego promieniowania jest niezbędna dla wytwarzania przez organizm pewnej witaminy.

Podaj literowy symbol tej witaminy oraz określ skutek jej niedoboru w organizmie.

.....

.....

Zadanie 13. (3 pkt)

Stres oznacza fizjologiczny stan „podwyższonej gotowości” organizmu, przystosowujący do nowej, nietypowej sytuacji. Jeżeli jest krótkotrwały – mobilizuje organizm do działania. Wówczas, pod wpływem hormonów nadnerczy, zwiększa się wydolność różnych narządów.

Uzupełnij tabelę, podając trzy przykłady narządów i właściwych im reakcji na pobudzenie przez hormony stresu.

Lp.	Narząd	Reakcja
1.		
2.		
3.		

Zadanie 14. (1 pkt)

U dziewcząt około 13. roku życia stosuje się obowiązkowe szczepienie ochronne przeciw różyczce.

Wyjaśnij, dlaczego szczepienia przeciw różyczce są obowiązkowe tylko dla dziewcząt.

.....

.....

.....

Zadanie 15. (1 pkt)

Według badań Światowej Organizacji Zdrowia (WHO) do krajów o największej częstości występowania miażdżycy zalicza się USA i większość wysoko rozwiniętych krajów europejskich. Choroba ta rzadko występuje u żyjących na dalekiej północy Eskimosów, których dieta obfituje w tłuszcze. Częstych zachorowań na miażdżycę nie obserwuje się również w krajach Afryki.

Na podstawie tekstu zaznacz dwa czynniki, które mogłyby zwiększyć częstość występowania miażdżycy u Eskimosów.

- A. czynniki klimatyczne,
- B. szybkie tempo życia,
- C. tłuste pożywienie,
- D. przejadanie się,
- E. aktywny tryb życia.

Zadanie 16. (3 pkt)

Tabela przedstawia wartości odczynu środowiska, w którym różne enzymy trawienne wykazują największą aktywność.

enzym	pH środowiska
A	1,5
B	7
C	9

Podaj przykład enzymów A, B i C oraz miejsca ich działania w przewodzie pokarmowym.

A –

B –

C –

Wypełnia egzaminator!	Nr zadania	11.	12.	13.	14.	15.	16.
	Maks. liczba pkt	1	2	3	1	1	3
	Uzyskana liczba pkt						

Zadanie 17. (2 pkt)

Wewnętrzna powierzchnia jelita cienkiego jest kilkaset razy większa od jego powierzchni zewnętrznej, co stanowi przystosowanie do pełnionej funkcji.

Podaj jedną cechę budowy jelita, dzięki której zwiększona jest jego powierzchnia wewnętrzna oraz funkcję jelita, którą ta cecha usprawnia.

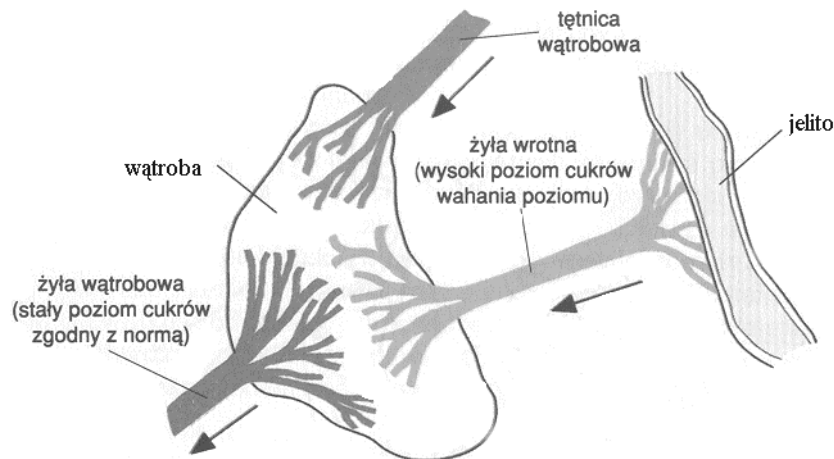
.....

.....

Zadanie 18. (1 pkt)

Wątroba uczestniczy w wielu przemianach biochemicznych w organizmie.

Podaj jedną funkcję wątroby, którą ilustruje poniższy schemat.



.....

.....

.....

Zadanie 19. (1 pkt)

Bilans energetyczny organizmu oznacza różnicę pomiędzy ilością energii dostarczanej do organizmu w pokarmie, a ilością energii wydatkowanej przez organizm w określonym czasie (np. w ciągu doby). Otyłość jest zawsze wynikiem utrzymującego się przez dłuższy czas dodatniego bilansu energetycznego.

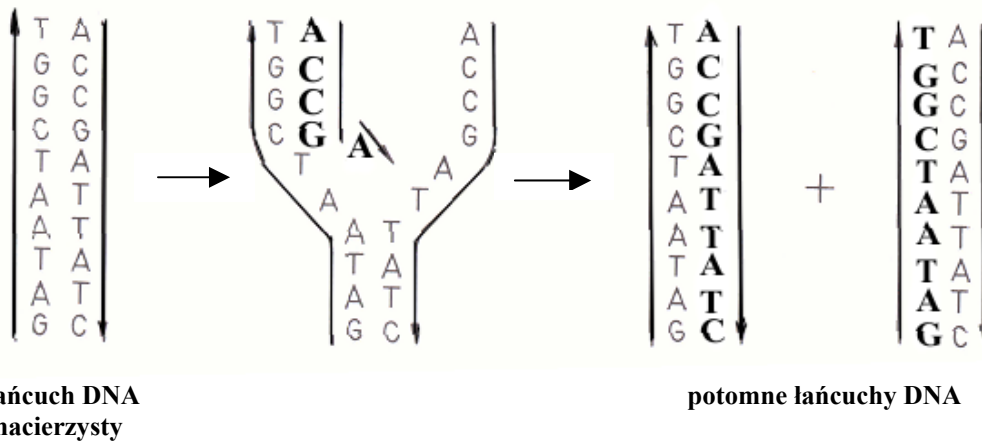
Na podstawie tekstu określ dwie przyczyny powstawania dodatniego bilansu energetycznego organizmu.

.....

.....

Zadanie 20. (2 pkt)

Schemat przedstawia w uproszczony sposób przebieg replikacji DNA:



Opisz przedstawiony na schemacie przebieg replikacji DNA.

.....

.....

.....

.....

Zadanie 21. (2 pkt)

Przyporządkuj określeniom 1, 2, 3 i 4 właściwe objaśnienia z kolumny A – F.
Dwa objaśnienia są zbędne.

- | | |
|-------------|-------------------------|
| 1. GENOM | A. RNA organizmu |
| 2. GENOTYP | B. chromosomy organizmu |
| 3. FENOTYP | C. geny organizmu |
| 4. KARIOTYP | D. cechy organizmu |
| | E. zmienność organizmu |
| | F. DNA organizmu |

1. 2. 3. 4.

Zadanie 22. (1 pkt)

Przyczyną pewnej choroby genetycznej jest recesywna mutacja autosomalna w genie kodującym jeden z łańcuchów pewnego białka.

Określ, czy nosicielem tej choroby może być tylko ojciec, tylko matka, czy oboje rodzice.
Odpowiedź uzasadnij.

.....

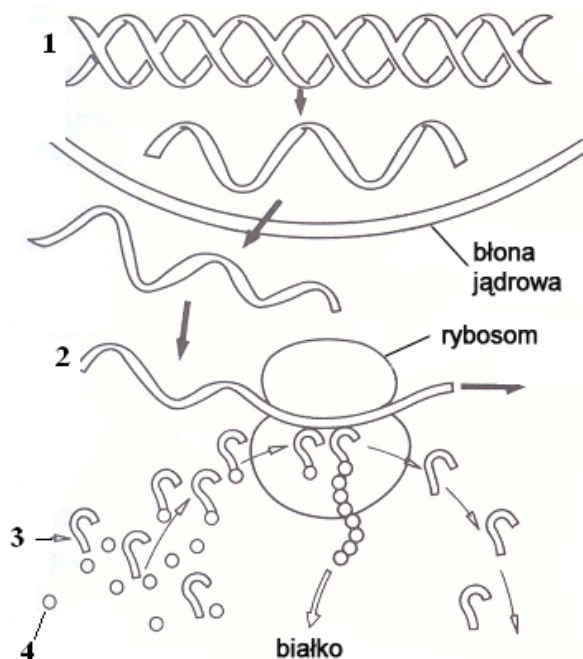
.....

.....

Wypełnia egzaminator!	Nr zadania	17.	18.	19.	20.	21.	22.
	Maks. liczba pkt	2	1	1	2	2	1
	Uzyskana liczba pkt						

Zadanie 23. (2 pkt)

Schemat przedstawia przebieg biosyntezy białka:



Przyporządkuj każdemu ze związków organicznych oznaczonych na rysunku cyframi 1 – 4, jego poprawną nazwę spośród A – E.

- | | | |
|---|---------|--------------|
| 1 | – | A. aminokwas |
| 2 | – | B. DNA |
| 3 | – | C. mRNA |
| 4 | – | D. rRNA |
| | | E. tRNA |

Zadanie 24. (1 pkt)

Badania nad wprowadzaniem do organizmów roślin uprawnych genów innych gatunków umożliwiły uzyskanie odmian o zwiększonej trwałości, bogatszych walorach smakowych, odżywczych czy leczniczych, o zwiększonej odporności na suszę, mrozy lub szkodniki. Mimo tych niezaprzeczalnych zalet rośliny transgeniczne przyjmowane są z dużą rezerwą. Przeciwnicy stosowania takich roślin używają argumentów, podkreślających nieprzewidywalne skutki ich uprawiania np.:

- A. Przekonują, że genetycznie zmieniona żywność może okazać się niebezpieczna dla zdrowia człowieka.
- B. Pojawia się argument, że geny zmodyfikowanej rośliny wnikną – po zjedzeniu – w genom człowieka, zmieniając jego właściwości.
- C. Innym zarzutem jest zagrożenie dla środowiska spowodowane przez niekontrolowane przenoszenie się genów ze zmodyfikowanych roślin na ich „dzikich” krewnych.

Oceń, który z przytoczonych powyżej argumentów przeciw uprawom roślin transgenicznych jest błędny. Odpowiedź uzasadnij.

.....

.....

Zadanie 25. (2 pkt)

Przyporządkuj każdemu z terminów 1 – 4 prawidłowe objaśnienie z kolumny A lub B.

Lp.	Termin	A	B
1	Recykling	wtórne, wielokrotne przetwarzanie produktów	powtórzenie cyklu wytwarzania energii
2	Eutrofizacja	użyźnienie zbiorników wodnych jest korzystne dla biocenozy	przeżyźnienie zbiorników wodnych zagraża ich zarastaniem i zamieraniem
3	Polska Czerwona Księga Roślin	zawiera listę gatunków trujących	zawiera listę gatunków ginących
4	Zasada zrównoważonego rozwoju	zaspokajanie potrzeb człowieka z poszanowaniem praw przyrody	rozwój gospodarczy poprzedzający zmiany w przyrodzie

1 – 2 – 3 – 4 –

Zadanie 26. (1 pkt)

Pierwszym ogniwem pokarmowego łańcucha spasaną są rośliny zielone produkujące materię organiczną w procesie fotosyntezy. Roślinożercy i drapieżcy pełnią rolę konsumentów pierwszego i dalszych rzędów. Bakterie i grzyby jako destruenci rozkładają martwe szczątki roślin i zwierząt. Produkty tego rozkładu w formie związków nieorganicznych są wraz z wodą pobierane przez rośliny i wykorzystywane w procesach syntezy.

Na podstawie powyższego opisu, skonstruuj schemat ilustrujący krążenie materii w ekosystemie.

Wypełnia egzaminator!	Nr zadania	23.	24.	25.	26.
	Maks. liczba pkt	2	1	2	1
	Uzyskana liczba pkt				

Zadanie 29. (1 pkt)

Pierwotny las mieszany w Puszczy Białowieskiej charakteryzuje duża różnorodność producentów i konsumentów. Pędami i nasionami roślin runa leśnego żywi się mysz. Dzik zjada żołądź i kłocza. Dżdżownice i myszy są pokarmem borsuka. Poczworkami ciem, których gąsienice objadają liście drzew, żywi się i borsuk, i dzik, i mysz leśna.

Oceń, czy w tego rodzaju lesie wskazane jest zastosowanie chemicznych środków ochrony roślin przed gąsienicami ciem. Odpowiedź uzasadnij, posługując się jednym argumentem.

.....
.....
.....
.....

Wypełnia egzaminator!	Nr zadania	27.	28.	29.
	Maks. liczba pkt	2	2	1
	Uzyskana liczba pkt			

BRUDNOPIS