

**WYPEŁNIA ZDAJĄCY**

**KOD**

--	--	--

**PESEL**

--	--	--	--	--	--	--	--	--	--	--

**Miejsce na naklejkę.**

Sprawdź, czy kod na naklejce to  
**M-100.**

Jeżeli tak – przyklej naklejkę.  
Jeżeli nie – zgłoś to nauczycielowi.

**Egzamin maturalny**

**Formuła 2023**

**CHEMIA**

**Poziom rozszerzony**

*Symbol arkusza*

**MCHP-R0-100-2506**

**DATA: 12 czerwca 2025 r.**

**GODZINA ROZPOCZĘCIA: 9:00**

**CZAS TRWANIA: 180 minut**

**LICZBA PUNKTÓW DO UZYSKANIA: 60**

**Przed rozpoczęciem pracy z arkuszem egzaminacyjnym**

1. Sprawdź, czy nauczyciel przekazał Ci **właściwy arkusz egzaminacyjny**, tj. arkusz we **właściwej formule**, z **właściwego przedmiotu** na **właściwym poziomie**.
2. Jeżeli przekazano Ci **niewłaściwy** arkusz – natychmiast zgłoś to nauczycielowi. Nie rozrywaj banderol.
3. Jeżeli przekazano Ci **właściwy** arkusz – rozerwij banderole po otrzymaniu takiego polecenia od nauczyciela. Zapoznaj się z instrukcją na stronie 2.





## Instrukcja dla zdającego

1. Sprawdź, czy arkusz egzaminacyjny zawiera 28 stron (zadania 1–29). Ewentualny brak zgłoś przewodniczącemu zespołu nadzorującego egzamin.
2. Na pierwszej stronie arkusza oraz na karcie odpowiedzi wpisz swój numer PESEL i przyklej naklejkę z kodem.
3. Odpowiedzi i rozwiązania zapisz w miejscu na to przeznaczonym przy każdym zadaniu.
4. W rozwiązaniach zadań rachunkowych przedstaw tok rozumowania prowadzący do ostatecznego wyniku oraz pamiętaj o jednostkach.
5. Pisz czytelnie. Używaj długopisu/pióra tylko z czarnym tuszem/atramentem.
6. Nie używaj korektora, a błędne zapisy wyraźnie przekreśl.
7. Pamiętaj, że zapisy w brudnopisie nie będą oceniane.
8. Możesz korzystać z *Wybranych wzorów i stałych fizykochemicznych na egzamin maturalny z biologii, chemii i fizyki*, z linijki oraz z kalkulatora naukowego. Upewnij się, czy przekazano Ci broszurę z okładką taką jak widoczna poniżej.



**Zadania egzaminacyjne są wydrukowane  
na następnych stronach.**

### Zadanie 1.

Dwa pierwiastki oznaczone umownie literami A i X należą do jednego bloku konfiguracyjnego. Pierwiastek A leży w drugim okresie układu okresowego pierwiastków, a pierwiastek X – w trzecim. Wiadomo, że w stanie podstawowym:

- atomy obu tych pierwiastków mają po jednym niesparowanym elektronie
- liczba elektronów walencyjnych atomu X jest większa niż liczba elektronów walencyjnych atomu A.

### Zadanie 1.1. (0–1)

Uzupełnij tabelę. Wpisz symbol pierwiastka A i symbol pierwiastka X oraz symbol bloku konfiguracyjnego, do którego należą te pierwiastki.

	Symbol pierwiastka	Symbol bloku konfiguracyjnego
Pierwiastek A		
Pierwiastek X		

### Zadanie 1.2. (0–1)

Uzupełnij tabelę. Wpisz wartości liczb kwantowych: głównej i pobocznej, które opisują stan kwantowy niesparowanego elektronu atomu X w stanie podstawowym.

	Liczby kwantowe	
	główna liczba kwantowa $n$	poboczna liczba kwantowa $l$
Wartości liczb kwantowych		

### Zadanie 2. (0–1)

W wyniku wzbudzenia elektronowego atomu fosforu jeden z elektronów sparowanych powłoki walencyjnej został przeniesiony na pustą podpowłokę o wyższej energii w tej samej powłoce elektronowej.

**Napisz pełną konfigurację elektronową atomu fosforu w opisanym stanie wzbudzonym. Zastosuj zapis konfiguracji elektronowej z uwzględnieniem podpowłok.**

.....

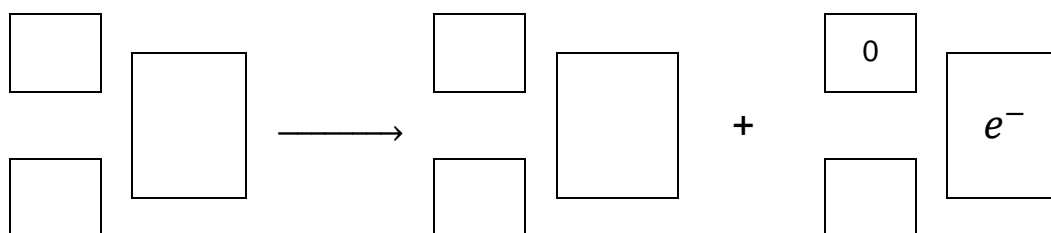


**Zadanie 3. (0–2)**

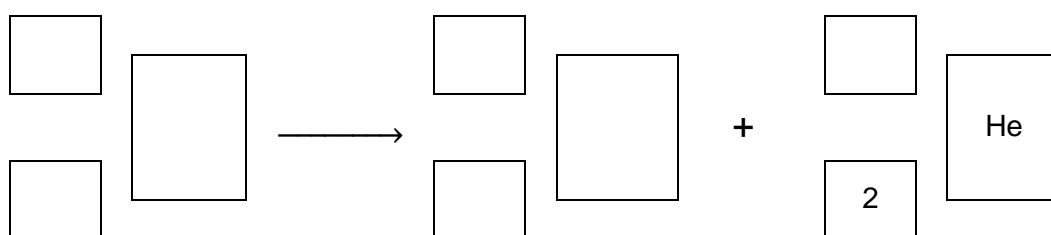
Jądro atomowe izotopu pewnego pierwiastka zawiera 126 neutronów. Stosunek liczby masowej tego izotopu do liczby atomowej wynosi 2,5. Opisany izotop występuje w jednym z naturalnych szeregów promieniotwórczych – powstaje w wyniku przemiany  $\beta^-$ , a ulega przemianie  $\alpha$ .

Napisz równanie przemiany  $\beta^-$ , której produktem jest opisany izotop, oraz równanie przemiany  $\alpha$ , której ten izotop ulega. Uzupełnij wszystkie pola odpowiednimi symbolami i wartościami liczbowymi.

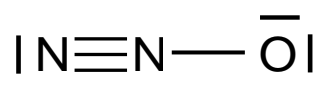
Przemiana  $\beta^-$



Przemiana  $\alpha$

**Zadanie 4. (0–2)**

Poniżej przedstawiono wzór opisujący jedną ze struktur elektronowych cząsteczki  $\text{N}_2\text{O}$ .



Uzupełnij tabelę. Określ typ hybrydyzacji orbitali walencyjnych atomu centralnego azotu ( $sp$ ,  $sp^2$ ,  $sp^3$ ) i kształt cząsteczki (liniowa, kątowa) oraz wpisz, ile wiązań  $\sigma$  i  $\pi$  występuje w cząsteczce  $\text{N}_2\text{O}$  o przedstawionej strukturze.

Typ hybrydyzacji	Kształt cząsteczki	Liczba	
		wiązań $\sigma$	wiązań $\pi$

### Zadanie 5. (0–2)

Ciała stałe można podzielić na krystaliczne i na bezpostaciowe. Kryształy klasyfikuje się ze względu na rodzaj oddziaływań między tworzącymi je drobinami.

Poniżej wymieniono nazwy substancji tworzących kryształy w stałym stanie skupienia.

jod      diament      tlenek sodu      magnez      woda (lód)

Spośród podanych substancji wybierz wszystkie tworzące kryształy jonowe, kryształy kowalencyjne lub kryształy molekularne. Wpisz ich nazwy w odpowiednie pola tabeli.

Kryształy		
jonowe	kowalencyjne	molekularne

### Informacja do zadań 6.–8.

W poniższej tabeli podano wartości entalpii (w temperaturze 298 K) trzech przemian:

1. syntezy tlenku azotu(II)
2. syntezy tlenku azotu(IV)
3. syntezy amoniaku.

Przemiana	Równanie przemiany	$\Delta H^\circ$ , kJ
1.	$\text{N}_2(\text{g}) + \text{O}_2(\text{g}) \rightleftharpoons 2\text{NO}(\text{g})$	+182,52
2.	$2\text{NO}(\text{g}) + \text{O}_2(\text{g}) \rightleftharpoons 2\text{NO}_2(\text{g})$	-114,14
3.	$\text{N}_2(\text{g}) + 3\text{H}_2(\text{g}) \rightleftharpoons 2\text{NH}_3(\text{g})$	-91,88

Na podstawie: W. Mizerski, *Tablice chemiczne*, Warszawa 2013.

### Zadanie 6. (0–2)

W celu wyznaczenia równania kinetycznego przemiany 2. przeprowadzono w temperaturze  $T$  doświadczenia I–III. Wartości stężeń początkowych obu substratów oraz odpowiadające im wartości szybkości początkowych zestawiono w tabeli.

	Stężenie początkowe, $\text{mol} \cdot \text{dm}^{-3}$		Szybkość początkowa, $\text{mol} \cdot \text{dm}^{-3} \cdot \text{s}^{-1}$
	NO	O <sub>2</sub>	
I	0,012	0,020	0,102
II	0,024	0,020	0,408
III	0,024	0,040	0,816

Na podstawie: L. Jones, P. Atkins, *Chemia ogólna*, Warszawa 2006.

a) Na podstawie danych z tabeli uzupełnij równanie kinetyczne opisanej przemiany. Wpisz wartości wykładników w wyznaczone miejsca.

Równanie kinetyczne:  $v = k \cdot c_{\text{NO}}^{\square} \cdot c_{\text{O}_2}^{\square}$





### Zadanie 9. (0–1)

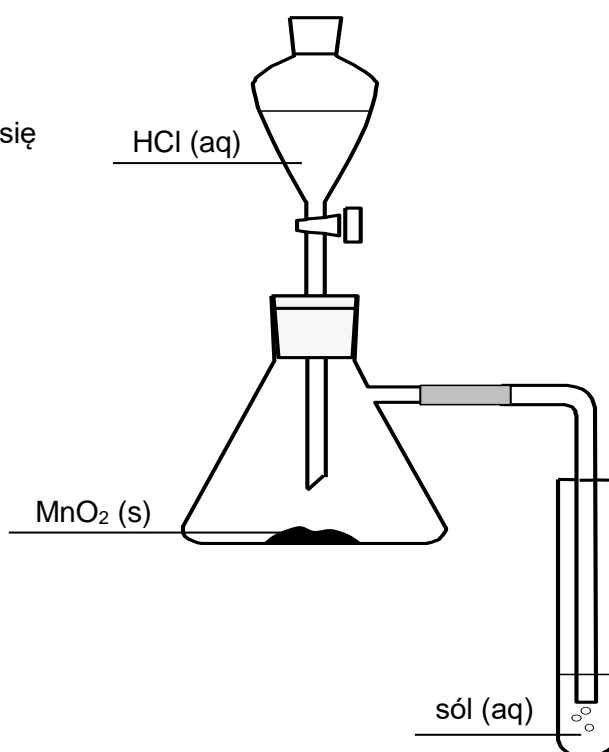
Tlenek azotu(II) można katalitycznie zredukować do azotu za pomocą amoniaku i przy udziale tlenu.

Napisz równanie opisanej redukcji tlenku azotu(II), w której stosunek molowy tlenku azotu(II) do tlenu wynosi  $n_{\text{NO}} : n_{\text{O}_2} = 4 : 1$ .

.....

### Zadanie 10.

Przeprowadzono doświadczenie, w którym na stały tlenek manganu(IV) podziało gorącym kwasem solnym. Wydzielający się chlor wprowadzono do probówki, w której znajdował się wodny roztwór  pewnej soli. Przebieg doświadczenia zilustrowano na schemacie.



Do tak powstałego roztworu po ściance probówki wprowadzono chloroform – wygląd zawartości probówki przedstawiono na zdjęciu 1. Następnie dokładnie wymieszano jej zawartość i pozostawiono do rozdzielenia warstw (zdjęcie 2.).



Zdjęcie 1.



Zdjęcie 2.



### Zadanie 10.1. (0–2)

Opisane doświadczenie przeprowadzono z udziałem pewnej soli, której wzoru nie podano na schemacie.

**Spośród wymienionych poniżej soli wybierz wzór tej, której wodny roztwór został użyty w tym doświadczeniu. Napisz jej nazwę systematyczną i uzupełnij zdanie. Zaznacz jedną odpowiedź spośród podanych w każdym nawiasie.**

NaF      NaBr      NaI

Nazwa systematyczna soli: .....

Przebieg doświadczenia wskazuje, że wolny chlor jest (silniejszym / słabszym) utleniaczem niż wolny (fluor / brom / jod).

### Zadanie 10.2. (0–2)

**Napisz w formie jonowej skróconej równania reakcji zachodzących podczas przebiegu doświadczenia:**

- w kolbie
- w probówce.

Równanie reakcji zachodzącej w kolbie:

.....

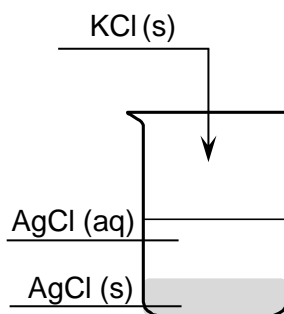
Równanie reakcji zachodzącej w probówce:

.....



### Zadanie 12. (0–1)

Do zlewki zawierającej  $100\text{ cm}^3$  wody destylowanej o temperaturze  $25\text{ }^\circ\text{C}$  dodano chlorek srebra(I). Po pewnym czasie w zlewce powstał nasycony roztwór chlorku srebra(I), czyli ustalił się stan równowagi między osadem a roztworem. Następnie w zlewce rozpuszczono pewną ilość chlorku potasu, która w tej objętości roztworu uległa całkowitemu rozpuszczeniu. Opisane doświadczenie przedstawiono na schemacie:



**Rozstrzygnij, czy w wyniku dodania chlorku potasu do otrzymanej mieszaniny masa osadu w zlewce zwiększyła się, zmniejszyła się, czy też nie uległa zmianie. Odpowiedź uzasadnij. W uzasadnieniu odwołaj się do procesu równowagowego w roztworze.**

Rozstrzygnięcie: .....

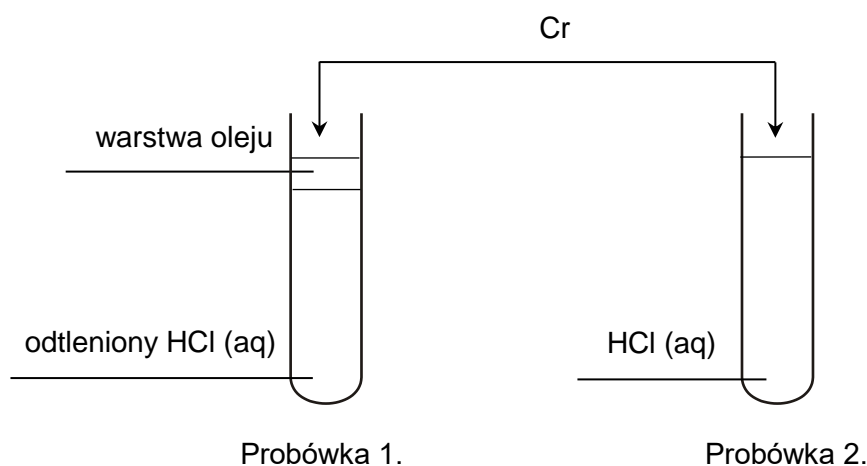
Uzasadnienie: .....

.....

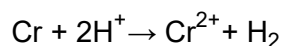
.....

### Informacja do zadań 13.–15.


Badano reakcje pewnej próbki metalicznego chromu z kwasem solnym w różnych warunkach. Przebieg doświadczenia zilustrowano na schemacie:



W probówce 1. użyto odtlenionego kwasu solnego, czyli takiego, w którym praktycznie nie ma rozpuszczonego tlenu. Dodatkowo na powierzchni roztworu umieszczono warstwę oleju. W takich warunkach chrom reaguje zgodnie z równaniem:



Na zdjęciach pokazano roztwory otrzymane w probówkach 1. i 2.

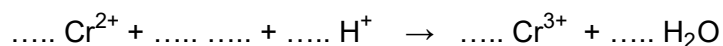


### Zadanie 13. (0–2)

Po całkowitym rozтворzeniu chromu w probówce 1. usunięto warstwę oleju i zaobserwowano, że roztwór stopniowo zmieniał barwę, aż uzyskał kolor taki sam jak kolor roztworu w probówce 2. Podczas stopniowej zmiany barwy nie obserwowano wydzielania gazu.

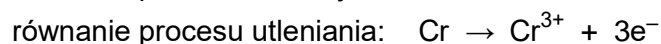
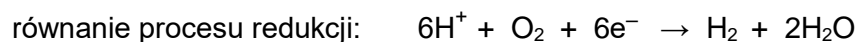
Uzupełnij równanie reakcji. Napisz:

- wzór brakującego reagenta
- odpowiednie współczynniki stechiometryczne.



#### Zadanie 14. (0–1)

Procesy utleniania i redukcji zachodzące w próbówce 2. można w uproszczeniu opisać równaniami:



**Napisz w formie jonowej skróconej sumaryczne równanie reakcji zachodzącej w próbówce 2.**

.....

#### Zadanie 15. (0–1)

Do próbki zawierającej wodny roztwór chlorku chromu(III) dodano w nadmiarze wodny roztwór wodorotlenku sodu i otrzymano klarowny roztwór. Następnie do tego roztworu wprowadzono wodny roztwór nadtlenku wodoru.

**Na którym zdjęciu przedstawiono wygląd zawartości próbki po zakończeniu opisanego doświadczenia? Zaznacz literę A, B, C albo D.**



A.



B.



C.



D.



### Zadanie 17.

W akumulatorze kadmowo-niklowym elektrodą dodatnią jest tlenek wodorotlenek niklu(III) o wzorze NiO(OH), elektrodą ujemną jest metaliczny kadm, a elektrolitem – roztwór KOH. Produktami rozładowania tego akumulatora są wodorotlenki niklu(II) i kadmu(II). W tabeli przedstawiono potencjały standardowe wybranych reakcji redukcji z udziałem kadmu i niklu oraz ich związków.

Równanie reakcji redukcji	Potencjał standardowy $E^\circ$ , V
$\text{Cd}^{2+} + 2\text{e}^- \rightleftharpoons \text{Cd}$	- 0,40
$\text{Cd}(\text{OH})_2 + 2\text{e}^- \rightleftharpoons \text{Cd} + 2\text{OH}^-$	- 0,81
$\text{Ni}^{2+} + 2\text{e}^- \rightleftharpoons \text{Ni}$	- 0,26
$\text{NiO}(\text{OH}) + \text{H}_2\text{O} + \text{e}^- \rightleftharpoons \text{Ni}(\text{OH})_2 + \text{OH}^-$	+ 0,52
$\text{Ni}(\text{OH})_2 + 2\text{e}^- \rightleftharpoons \text{Ni} + 2\text{OH}^-$	- 0,72

Na podstawie: *Handbook of Chemistry and Physics 97<sup>th</sup>*, CRC Press 2017.

#### Zadanie 17.1. (0–1)

Napisz w formie cząsteczkowej równanie reakcji zachodzącej podczas pracy – rozładowywania – akumulatora kadmowo-niklowego.

.....

#### Zadanie 17.2. (0–1)

Wybierz z tabeli odpowiednie wartości potencjałów standardowych i oblicz siłę elektromotoryczną *SEM* tego akumulatora.

.....

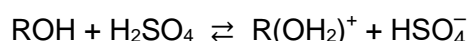


Wiązanie podwójne w cząsteczce alkenu – głównego produktu dehydratacji – często znajduje się w innym miejscu, niż wynikałoby to z położenia grupy –OH w substracie. Dzieje się tak dlatego, że powstający karbokation ulega przegrupowaniu. Dochodzi wtedy do przeniesienia atomu wodoru lub grupy alkilowej od sąsiedniego atomu węgla, czemu towarzyszy przemieszczenie się ładunku dodatniego. Przegrupowanie zachodzi zawsze wtedy, gdy może powstać trwalszy karbokation, czyli taki, w którym ładunek dodatni znajduje się na atomie węgla o możliwie najwyższej rzędowości.

Na podstawie: R.T. Morrison, R.N. Boyd, *Chemia organiczna*, Warszawa 2012.

### Zadanie 19.1. (0–1)

Pierwszy etap dehydratacji alkoholu w obecności stężonego kwasu siarkowego(VI) można opisać równaniem:



**Uzupełnij zdania. Zaznacz jedną odpowiedź spośród podanych w każdym nawiasie.**

Jon  $\text{HSO}_4^-$  jest (mocniejszą / słabszą) zasadą Brønsteda niż cząsteczka ROH. Cząsteczka  $\text{H}_2\text{SO}_4$  jest (mocniejszym / słabszym) kwasem Brønsteda niż jon  $\text{R}(\text{OH}_2)^+$ .

### Zadanie 19.2. (0–1)

**Napisz wzór strukturalny karbokationu, który powstaje w drugim etapie dehydratacji propan-2-olu. We wzorze zaznacz ładunek dodatni przy odpowiednim atomie.**

.....

### Zadanie 19.3. (0–1)


Przeprowadzono reakcję dehydratacji butan-1-olu.

**Napisz wzór półstrukturalny (grupowy) produktu głównego dehydratacji butan-1-olu oraz jego nazwę systematyczną. Uwzględnij możliwość przegrupowania karbokationu.**

Wzór produktu głównego dehydratacji butan-1-olu	Nazwa systematyczna

### Zadanie 20.

W celu otrzymania bromoalkanu o wzorze sumarycznym  $C_5H_{11}Br$  przeprowadzono reakcję alkoholu alifatycznego z halogenkiem fosforu(III). Reakcja przebiega zgodnie ze schematem, w którym R to grupa alkilowa, a X – atom halogenu:



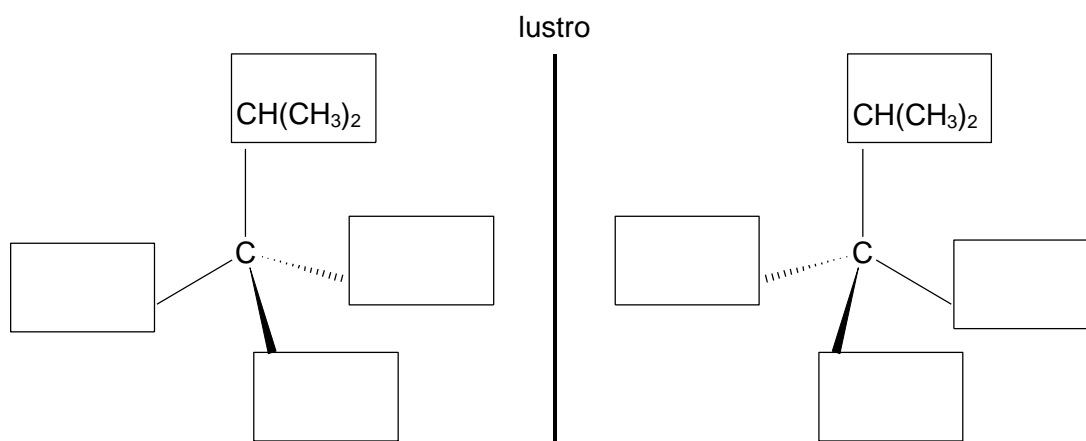
W cząsteczkach otrzymanej bromopochodnej występują:

- drugorzędowy asymetryczny atom węgla
- trzeciorzędowy atom węgla.

Na podstawie: K.H. Lautenschläger, W. Schröter, A. Wanninger, *Nowoczesne kompendium chemii*, Warszawa 2007.

### Zadanie 20.1. (0–1)

Uzupełnij poniższy schemat tak, aby przedstawiał budowę obu enancjomerów opisanej bromopochodnej.



### Zadanie 20.2. (0–1)

Związek Q to izomer opisanej powyżej bromopochodnej. W cząsteczce tego izomeru znajduje się jeden czwartorzędowy atom węgla. Związek Q poddano reakcji hydrolizy zasadowej.

Napisz wzór półstrukturalny (grupowy) organicznego produktu reakcji hydrolizy zasadowej związku Q.

**Zadanie 21. (0–2)**

Zastąpienie w cząsteczkach związków organicznych atomu tlenu atomem siarki powoduje znaczące zmiany we właściwościach fizycznych i chemicznych tych substancji. Poniżej przedstawiono wzory dwóch takich związków:

1.  $\text{CH}_3\text{CH}_2\text{OH}$
2.  $\text{CH}_3\text{CH}_2\text{SH}$

Związki 1. i 2. – mimo podobnej budowy ich cząsteczek – znacznie różnią się wartościami temperatury wrzenia.

**a) Uzupełnij tabelę. Przyporządkuj wartości temperatury wrzenia (pod ciśnieniem 1000 hPa) 35 °C i 78 °C do związków 1. i 2.**

Związek	Temperatura wrzenia, °C
1.	
2.	

**b) Wyjaśnij, dlaczego te związki (etanol i etanotiol) znacznie różnią się wartościami temperatury wrzenia. Odniesz się do konsekwencji różnicy w budowie cząsteczek obu związków.**

Wyjaśnienie: .....

.....

.....

**Zadanie 22. (0–1)**

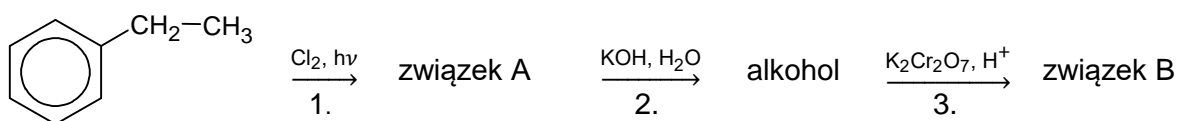
Tiol o wzorze  $(\text{CH}_3)_2\text{CH-SH}$  można otrzymać z alkilowej bromopochodnej i wodorosiarczku sodu.

**Napisz w formie jonowej skróconej równanie opisanej reakcji. Zastosuj wzory półstrukturalne (grupowe) związków organicznych.**

.....

**Zadanie 23.**

Poniżej przedstawiono schemat ciągu przemian chemicznych (reakcje 1.–3.), w wyniku których z etylobenzenu otrzymano keton (związek B).

**Zadanie 23.1. (0–1)**

Uzupełnij tabelę. Określ typ (addycja, eliminacja, substytucja) oraz mechanizm (elektrofilowy, nukleofilowy, rodnikowy) reakcji 1. i 2.

	Reakcja 1.	Reakcja 2.
Typ reakcji		
Mechanizm reakcji		

**Zadanie 23.2. (0–2)**

Napisz w formie jonowej z uwzględnieniem liczby oddawanych lub pobieranych elektronów (zapis jonowo-elektronowy) równania procesów redukcji i utleniania zachodzących podczas reakcji 3. Zastosuj wzory półstrukturalne (grupowe) związków organicznych.

Równanie procesu redukcji:

.....

Równanie procesu utleniania:

.....

**Zadanie 23.3. (0–1)**

Podczas reakcji 3. następuje zmiana barwy mieszaniny reakcyjnej.

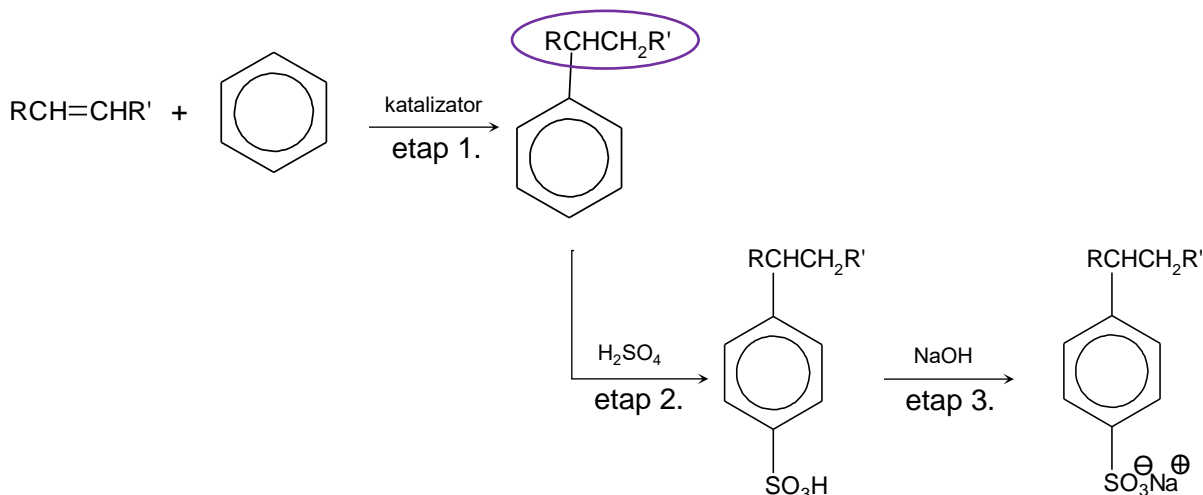
Uzupełnij tabelę. Wpisz barwę mieszaniny reakcyjnej przed rozpoczęciem reakcji 3. i barwę po jej zakończeniu.

Barwa mieszaniny reakcyjnej	
<u>przed</u> reakcją	<u>po</u> reakcji



### Informacja do zadań 24.–25.

Detergenty to związki, których cząsteczki są zbudowane z części hydrofilowej oraz z części hydrofobowej. Obecnie powszechnie stosowanymi detergentami są alkilbenzenosulfoniany. Przykładem takiego detergentu jest alkilbenzenosulfonian sodu, który otrzymuje się w trzech etapach – co zilustrowano na schemacie:



$RCH=CHR'$  to alken o 10–14 atomach węgla w cząsteczce i o nierozgałęzionym łańcuchu, a R i R' są grupami alkilowymi.

Na podstawie: H. Hart i in., *Chemia organiczna*, Warszawa 2008.

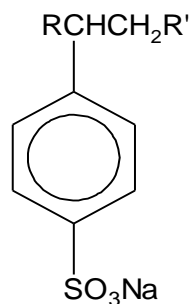
### Zadanie 24. (0–1)

Oceń prawdziwość zdań. Zaznacz P, jeśli zdanie jest prawdziwe, albo F – jeśli jest fałszywe.

1.	W zaznaczonym na fioletowo fragmencie cząsteczki produktu reakcji zachodzącej w etapie 1. występują wiązania $\sigma$ i $\pi$ .	P	F
2.	Przemiana zachodząca w etapie 2. jest reakcją substytucji.	P	F

### Zadanie 25. (0–1)

Zaznacz w podanym poniżej wzorze detergentu fragment hydrofobowy.

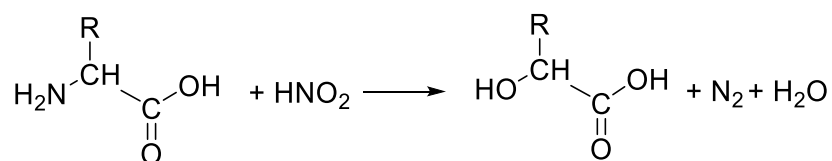






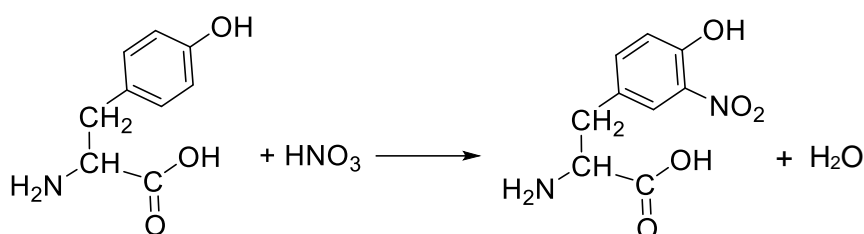
### Zadanie 27.

Aminokwasy, które w cząsteczkach zawierają pierwszorzędową grupę aminową, ulegają reakcji z kwasem azotowym(III). Tę przemianę ilustruje schemat:



Na podstawie: L. Kłyszajko-Stefanowicz, *Ćwiczenia rachunkowe z biochemii*, Warszawa 2011.

Aminokwasy zawierające w cząsteczkach pierścień aromatyczny reagują z kwasem azotowym(V). Przebieg reakcji tyrozyny z kwasem azotowym(V) przedstawia równanie:



Na podstawie: A. Polanowski, *Laboratorium z biochemii*, Wrocław 2011.

### Zadanie 27.1. (0–1)

**Napisz równanie reakcji waliny z kwasem azotowym(III). Zastosuj wzory półstrukturalne (grupowe) związków organicznych.**

.....

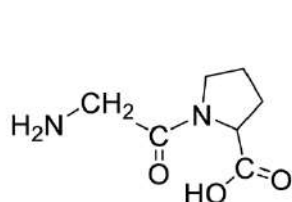
### Zadanie 27.2. (0–1)

Pewien aminokwas poddano działaniu kwasu azotowego(III). Produktem organicznym tej przemiany jest kwas 2-hydroksy-3-fenylpropanowy.

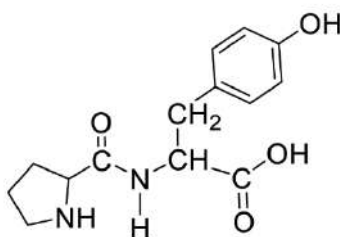
**Napisz wzór półstrukturalny (grupowy) aminokwasu, który poddano reakcji z kwasem azotowym(III).**

**Zadanie 27.3. (0–2)**

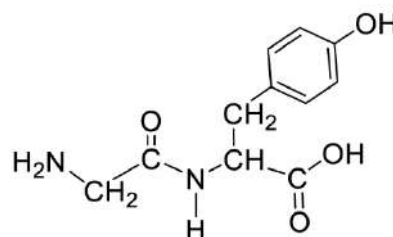
Przeprowadzono doświadczenie z udziałem trzech dipeptydów 1., 2. i 3. o wzorach:



1.



2.



3.

Te dipeptydy umieszczono oddzielnie – w przypadkowej kolejności – w probówkach oznaczonych numerami I, II i III. Przeprowadzono doświadczenie, w którym każdy dipeptyd poddano dwóm reakcjom: z kwasem  $\text{HNO}_2$  oraz z kwasem  $\text{HNO}_3$ . Wyniki doświadczenia przedstawiono w poniższej tabeli.

Wzór kwasu użytego do identyfikacji	Zmiany zaobserwowane w probówkach		
	I	II	III
$\text{HNO}_2$	pojawiły się pęcherzyki bezbarwnego gazu	pojawiły się pęcherzyki bezbarwnego gazu	nie zaobserwowano zmian
$\text{HNO}_3$	nie zaobserwowano zmian	zawartość probówki zabarwiła się na żółto	zawartość probówki zabarwiła się na żółto

**Na podstawie wyników doświadczenia zidentyfikuj zawartość probówek. Uzupełnij zdania. Zaznacz jedną odpowiedź spośród podanych w każdym nawiasie. Następnie napisz nazwę reakcji, której przebieg spowodował powstanie związków o żółtej barwie.**

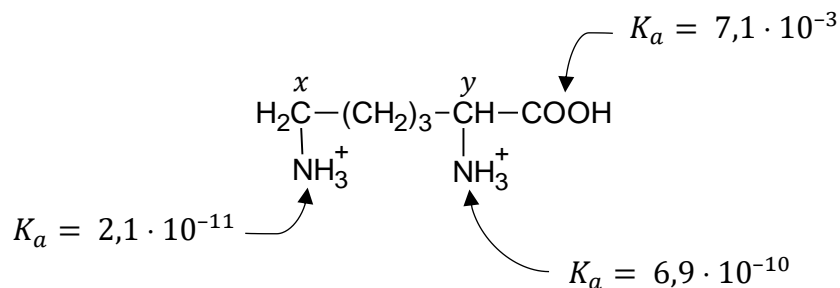
W probówce I znajdował się (dipeptyd 1. / dipeptyd 2. / dipeptyd 3.).

W probówce II znajdował się (dipeptyd 1. / dipeptyd 2. / dipeptyd 3.).

Nazwa reakcji: .....

### Zadanie 28.

Forma, w jakiej aminokwasy występują w roztworach wodnych, zależy od pH roztworu. W środowisku o niskim pH lizyna występuje w formie dwudodatniego kationu, w którym są obecne trzy grupy o charakterze kwasowym. Stałe dysocjacji kwasowej tych grup są różne – ich wartości umieszczono na schemacie:



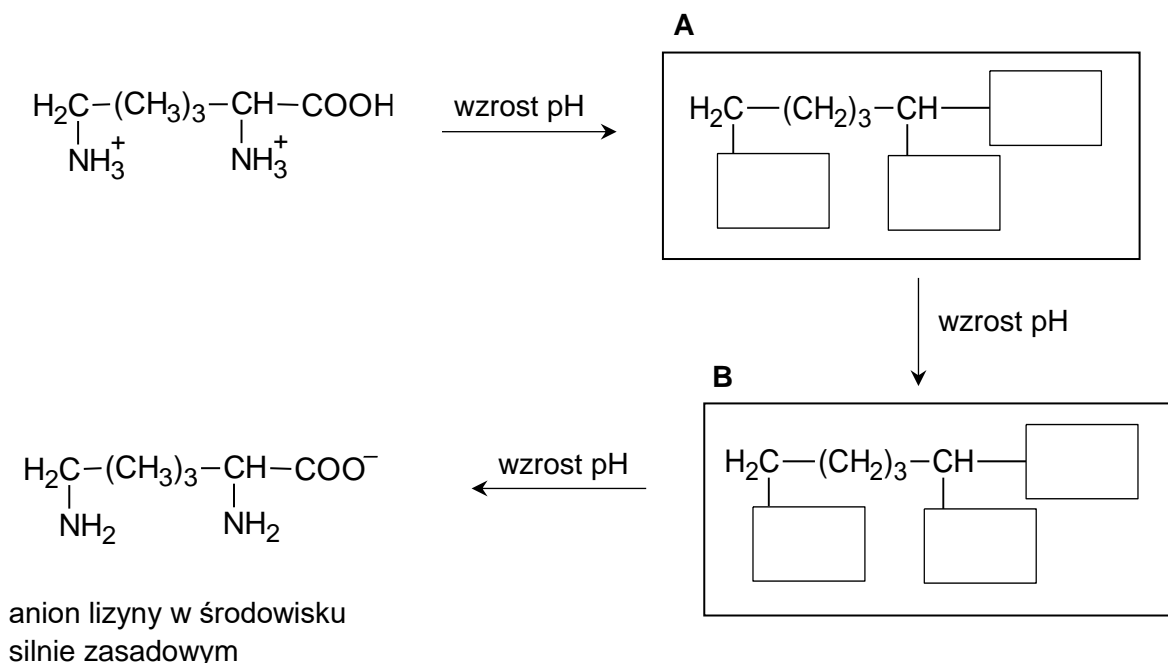
Wraz ze wzrostem pH grupy o charakterze kwasowym kolejno tracą protony i w środowisku silnie zasadowym lizyna występuje w formie anionu.

W podanym wzorze kationu wyróżniono dwa atomy węgla – oznaczono je literami *x* i *y*.

### Zadanie 28.1. (0–2)

Do roztworu zawierającego kationy lizyny o wzorze podanym w informacji wstępnej stopniowo wprowadzano wodny roztwór wodorotlenku sodu.

Uzupełnij poniższy schemat. Wpisz w odpowiednie miejsca wzory grup w powstających – wraz ze wzrostem pH – jonach lizyny oznaczonych literami A i B.



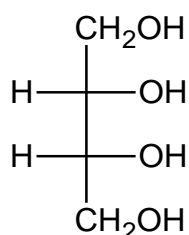
**Zadanie 28.2. (0–1)**

Uzupełnij zdanie. Zaznacz jedną odpowiedź spośród podanych w każdym nawiasie.

W anionie lizyny, który występuje w środowisku silnie zasadowym, grupą o najsilniejszym charakterze zasadowym jest grupa o wzorze ( $-\text{COO}^-$  /  $-\text{NH}_2$ ), związana z atomem węgla oznaczonym literą ( $x$  /  $y$ ).

**Zadanie 29.**

Erytrytol jest naturalnym związkiem organicznym stosowanym jako substancja słodząca (E968). Wzór erytrytoli w projekcji Fischera podano poniżej.



Utlenienie grupy  $-\text{OH}$  przy pierwszym atomie węgla w cząsteczce erytrytoli prowadzi do powstania cząsteczki monosacharydu o nazwie D-erytroza.

**Zadanie 29.1. (0–1)**

Rozstrzygnij, czy cząsteczka erytrytoli jest chiralna. Odpowiedź uzasadnij.

Rozstrzygnięcie: .....

Uzasadnienie: .....

.....

.....

**Zadanie 29.2. (0–1)**

Napisz wzór – w projekcji Fischera – formy łańcuchowej D-erytrozy, czyli produktu utlenienia grupy  $-\text{OH}$  przy pierwszym atomie węgla w cząsteczce erytrytoli.



## BRUDNOPIS (*nie podlega ocenie*)









# CHEMIA

## Poziom rozszerzony

*Formuła 2023*



# CHEMIA

## Poziom rozszerzony

*Formuła 2023*



# CHEMIA

## Poziom rozszerzony

*Formuła 2023*

