

WYPEŁNIA ZDAJĄCY

KOD

--	--	--

PESEL

--	--	--	--	--	--	--	--	--	--	--	--	--	--	--

Miejsce na naklejkę.Sprawdź, czy kod na naklejce to
M-100.Jeżeli tak – przyklej naklejkę.
Jeżeli nie – zgłoś to nauczycielowi.**Egzamin maturalny****Formuła 2023****INFORMATYKA****Poziom rozszerzony**

WYPEŁNIA ZDAJĄCY

WYBRANE:

.....
(system operacyjny).....
(program użytkowy).....
(środowisko programistyczne)

Symbol arkusza


MINP-R0-100-2405DATA: **22 maja 2024 r.**GODZINA ROZPOCZĘCIA: **9:00**CZAS TRWANIA: **210 minut**LICZBA PUNKTÓW DO UZYSKANIA: **50****Przed rozpoczęciem pracy z arkuszem egzaminacyjnym**

1. Sprawdź, czy nauczyciel przekazał Ci **właściwy arkusz egzaminacyjny**, tj. arkusz we **właściwej formule**, z **właściwego przedmiotu** na **właściwym poziomie**.
2. Jeżeli przekazano Ci **niewłaściwy** arkusz – natychmiast zgłoś to nauczycielowi. Nie rozrywaj banderol.
3. Jeżeli przekazano Ci **właściwy** arkusz – rozerwij banderole po otrzymaniu takiego polecenia od nauczyciela. Zapoznaj się z instrukcją na stronie 2.





Instrukcja dla zdającego

1. Sprawdź, czy arkusz egzaminacyjny zawiera 18 stron (zadania 1–8) i czy dołączony jest do niego nośnik danych – podpisany DANE. Ewentualny brak zgłoś przewodniczącemu zespołu nadzorującego egzamin.
2. Na pierwszej stronie oraz na karcie odpowiedzi wpisz swój numer PESEL i przyklej naklejkę z kodem.
3. Wpisz zadeklarowane (wybrane) przez Ciebie na egzamin: system operacyjny, program użytkowy oraz środowisko programistyczne.
4. Symbol  zamieszczony w nagłówku zadania zwraca uwagę na to, że zadanie nie wymaga użycia komputera i odpowiedź do zadania należy zapisać tylko w miejscu na to przeznaczonym w arkuszu egzaminacyjnym.
5. Jeśli rozwiązaniem zadania lub jego części jest program komputerowy, to zapisz go w zadeklarowanym (wybranym) języku programowania i umieść w katalogu (folderze) oznaczonym Twoim numerem PESEL wszystkie utworzone przez siebie pliki w wersji źródłowej.
6. Jeśli rozwiązaniem zadania lub jego części jest baza danych utworzona z wykorzystaniem MySQL (MariaDB), to umieść w katalogu (folderze) oznaczonym Twoim numerem PESEL treści zapytań w języku SQL oraz (przed zakończeniem egzaminu) wyeksportowaną całą bazę w formacie *.sql.
7. Pliki oddawane do oceny nazwij dokładnie tak, jak polecono w treści zadań, lub zapisz je pod nazwami (wraz z rozszerzeniem zgodnym z zadeklarowanym oprogramowaniem), jakie podajesz w arkuszu egzaminacyjnym. **Pliki o innych nazwach nie będą sprawdzane przez egzaminatora.**
Pamiętaj, że zadania praktyczne niezawierające komputerowej realizacji rozwiązań zostaną ocenione na 0 punktów.
8. **Przed upływem czasu przeznaczanego na egzamin** zapisz w katalogu (folderze) oznaczonym Twoim numerem PESEL ostateczną wersję plików stanowiących rozwiązania zadań.
9. Pisz czytelnie. Używaj długopisu/pióra tylko z czarnym tuszem/atramentem.
10. Nie używaj korektora, a błędne zapisy wyraźnie przekreśl.
11. Nie wpisuj żadnych znaków w tabelkach przeznaczonych dla egzaminatora. Tabelki są umieszczone na marginesie przy każdym zadaniu.
12. Pamiętaj, że zapisy w brudnopisie nie będą oceniane.



**Zadania egzaminacyjne są wydrukowane
na następnych stronach.**

Zadanie 1. Plansza

Dana jest prostokątna plansza złożona z n wierszy i m kolumn zawierająca $n * m$ pól. Wiersze są ponumerowane od góry kolejnymi liczbami $1, 2, \dots, n$, natomiast kolumny od lewej do prawej kolejnymi liczbami $1, 2, \dots, m$. Każde pole jest albo białe, albo czarne.

Planszę możemy opisać jako tablicę dwuwymiarową $A[1..n][1..m]$, w której $A[i][j] = 0$, jeśli pole w i -tym wierszu i j -tej kolumnie jest czarne, natomiast $A[i][j] = 1$, jeśli to pole jest białe. Pola w lewym górnym rogu oraz prawym dolnym rogu zawsze są białe (czyli $A[1][1] = 1$ oraz $A[n][m] = 1$).

Rozważmy następujący algorytm, w którym jest wykorzystywana pomocnicza tablica $P[1..n][1..m]$, przyjmująca wartości logiczne (PRAWDA albo FAŁSZ).

Specyfikacja:

Dane:

n, m – liczby całkowite dodatnie, wymiary planszy
 $A[1..n][1..m]$ – opis planszy

Wynik:

PRAWDA albo FAŁSZ

$P[1][1] \leftarrow \text{PRAWDA}$

dla $i = 1, 2, \dots, n$ **wykonuj**

dla $j = 1, 2, \dots, m$ **wykonuj**

jeżeli $A[i][j] = 0$

$P[i][j] \leftarrow \text{FAŁSZ}$

w przeciwnym przypadku

jeżeli $i = 1$ **oraz** $j \neq 1$

$P[i][j] \leftarrow P[i][j-1]$

jeżeli $i \neq 1$ **oraz** $j = 1$

$P[i][j] \leftarrow P[i-1][j]$

jeżeli $i \neq 1$ **oraz** $j \neq 1$

$P[i][j] \leftarrow P[i][j-1] \text{ lub } P[i-1][j]$

podaj wynik $P[n][m]$

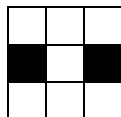


Zadanie 1.1. (0–2)

Podaj wynik działania algorytmu dla plansz podanych na rysunkach poniżej, gdzie n to liczba wierszy, a m to liczba kolumn danej planszy.


1.1.
0–1–2

a) $n = 3, m = 3$




Wynik: _____

b) $n = 5, m = 3$



Wynik: _____

c) $n = 5, m = 5$



Wynik: _____

Miejsce na obliczenia (brudnopis)



Specyfikacja:


Dane:

n – dodatnia liczba całkowita, taka że istnieje dla niej *nieparzysty skrót*

Wynik:

m – *nieparzysty skrót* liczby n

Algorytm:

A large grid of graph paper, consisting of 30 columns and 30 rows of small squares, intended for writing an algorithm.

Zadanie 3.2. (0–3)

Plik `skrot.txt` zawiera 200 dodatnich liczb całkowitych, mniejszych od 30 000. Każda liczba jest zapisana w osobnym wierszu. Dla co najmniej jednej z tych liczb nie istnieje *nieparzysty skrót*.

Napisz program, który wyznaczy liczbę wszystkich liczb z pliku `skrot.txt`, dla których **nie istnieje** *nieparzysty skrót*, oraz poda największą z nich. Odpowiedź zapisz w pliku `wyniki3_2.txt`.

Plik `skrot_przyklad.txt` zawiera 20 liczb mniejszych od 30 000. Dla danych zawartych w pliku `skrot_przyklad.txt` prawidłową odpowiedzią jest:

2

2428

(w pliku są dwie liczby, dla których nie istnieje *nieparzysty skrót*: 266 i 2428; 2428 jest największą z nich).

Do oceny oddajesz:

- plik `wyniki3_2.txt` – zawierający odpowiedź do zadania 3.2.
- plik(-i) zawierający(-e) kod(-y) źródłowy(-e) Twojego programu o nazwie(-ach) (uwaga: brak tego(tych) pliku(-ów) jest równoznaczny z brakiem rozwiązania zadania):

.....

Zadanie 3.3. (0–4)

Plik `skrot2.txt` zawiera 200 dodatnich liczb całkowitych, mniejszych od 30 000. Każda liczba jest zapisana w osobnym wierszu. **Dla każdej z tych liczb istnieje *nieparzysty skrót***.

Napisz program, który wypisze te liczby z pliku `skrot2.txt`, dla których największy wspólny dzielnik liczby i jej *nieparzystego skrótu* jest równy 7. Odpowiedź zapisz w pliku `wyniki3_3.txt`. Twój program powinien wypisać w każdym wierszu wyniku po jednej liczbie z pliku `skrot2.txt`, dla której jest spełniony powyższy warunek.

Plik `skrot2_przyklad.txt` zawiera 20 liczb spełniających warunki zadania. Dla danych zawartych w pliku `skrot2_przyklad.txt` prawidłową odpowiedzią jest:

4872

23527

Do oceny oddajesz:

- plik `wyniki3_3.txt` – zawierający odpowiedź do zadania 3.3.
- plik(-i) zawierający(-e) kod(-y) źródłowy(-e) Twojego programu o nazwie(-ach) (uwaga: brak tego(tych) pliku(-ów) jest równoznaczny z brakiem rozwiązania zadania):

.....



Zadanie 4. Liczby

Plik `liczby.txt` składa się z dwóch wierszy:

- pierwszy wiersz pliku zawiera 3000 liczb pierwszych z przedziału $[2, 2000]$
- drugi wiersz pliku zawiera 20 liczb całkowitych z przedziału $[2, 1\ 000\ 000\ 000]$.

Liczby w wierszach są rozdzielone znakami spacji.

Napisz program (lub kilka programów), który(-e) znajdzie(-ą) odpowiedzi do podanych zadań. Każdą odpowiedź zapisz w pliku `wyniki4.txt` i poprzedź ją numerem oznaczającym zadanie.

Do Twojej dyspozycji jest plik `liczby_przyklad.txt`, który zawiera 200 liczb w pierwszym wierszu (są to wyłącznie liczby 2, 3, 5, 7 i 31) oraz 20 liczb w drugim wierszu. Odpowiedzi dla danych z tego pliku są umieszczone pod każdym zadaniem.

Pamiętaj, że Twój program musi ostatecznie zadziałać na pliku `liczby.txt` z 3000 liczb w pierwszym wierszu.

Zadanie 4.1. (0–2)

Podaj, ile liczb z pierwszego wiersza jest dzielnikiem jakiegokolwiek liczby spośród liczb z drugiego wiersza.

Dla pliku `liczby_przyklad.txt` odpowiedzią jest 199 (tylko liczba 31, która występuje raz, nie jest dzielnikiem żadnej z liczb w drugim wierszu).

4.1.
0–1–2
<input type="text"/>

Zadanie 4.2. (0–2)

Spośród liczb z pierwszego wiersza podaj liczbę, która jest sto pierwszą liczbą w kolejności, licząc od największej po ich uporządkowaniu.

Przykład: wśród liczb 2, 4, 2, 3, 3, 4 drugą w kolejności, licząc od największej, jest liczba 4.

Dla pliku `liczby_przyklad.txt` odpowiedzią jest 5.

4.2.
0–1–2
<input type="text"/>

Zadanie 4.3. (0–3)

Dla każdej z liczb z drugiego wiersza rozstrzygnij, czy da się ją przedstawić jako iloczyn jedynie liczb z pierwszego wiersza. Przy tym liczba wystąpień danego czynnika w iloczynie nie może być większa niż liczba wystąpień tego czynnika w pierwszym wierszu. Znajdź wszystkie liczby, które da się tak przedstawić, i je wypisz.

Dla pliku `liczby_przyklad.txt` odpowiedzią są liczby:

10 12 14 15 18 20 21 25 27 28

(liczbę 16 można przedstawić jako iloczyn $2 \cdot 2 \cdot 2$, jednak w pierwszym wierszu liczba 2 występuje tylko dwa razy, więc 16 nie należy do rozwiązania. Podobnie jest z liczbą 24, którą można przedstawić jako iloczyn $2 \cdot 2 \cdot 2 \cdot 3$).

4.3.
0–1– 2–3
<input type="text"/>

Zadanie 4.4. (0–3)

Znajdź w ciągu liczb z pierwszego wiersza spójny fragment, który zawiera co najmniej 50 elementów i którego średnia arytmetyczna jest największa.

Jeżeli jest więcej niż jeden taki fragment, wybierz ten, który występuje jako pierwszy w pliku `liczby.txt`.

W odpowiedzi wypisz:

- znaną najwyższą średnią
- liczbę elementów ciągu z tą najwyższą średnią
- liczbę, która jest pierwszym elementem tego ciągu.

Dla pliku `liczby_przyklad.txt` odpowiedzią jest:

5,52 50 5

(największa średnia to 5,52 dla 50 liczb zaczynających się od liczby 5).

Do oceny oddajesz:

- plik `wyniki4.txt` – zawierający odpowiedzi do zadań 4.1.–4.4.
(odpowiedź do każdego zadania powinna być poprzedzona jego numerem)
- pliki zawierające kody źródłowe Twojego(-ich) programu(-ów) o nazwach
(uwaga: brak tych plików jest równoznaczny z brakiem rozwiązania zadania):

zadanie 4.1.

zadanie 4.2.

zadanie 4.3.

zadanie 4.4.

Zadanie 5. (0–1)

Oceń prawdziwość podanych zdań. Zaznacz **P**, jeśli zdanie jest prawdziwe, albo **F** – jeśli jest fałszywe.

1.	HTTP to protokół komunikacyjny opisujący sposób przekazywania poczty elektronicznej w internecie.	P	F
2.	FTP to protokół zamiany nazw domenowych na adresy IP.	P	F
3.	DHCP to protokół umożliwiający hostom uzyskanie od serwera danych konfiguracyjnych, np. adresu IP, adresu bramy sieciowej, adresu serwera DNS.	P	F



Zadanie 7.1. (0–2)

Dla każdego klienta policz, ile kupił on łącznie (we wszystkich swoich transakcjach) kilogramów jabłek odmian zimowych. Podaj numery NIP trzech klientów, którzy kupili najwięcej jabłek odmian zimowych (Z), oraz podaj dla każdego z nich liczbę kilogramów jabłek odmian zimowych przez nich kupionych.

Zadanie 7.2. (0–2)

Przychód z pojedynczej sprzedaży to cena sprzedaży jednego kilograma jabłek pomnożona przez liczbę kilogramów. Podaj całkowity przychód hurtowni uzyskany w całym okresie. Podaj nazwę odmiany jabłek, która dała największy przychód.

Zadanie 7.3. (0–3)

Wykonaj zestawienie, w którym dla każdego miesiąca roku 2022 podasz nazwę najbardziej popularnej odmiany w tym miesiącu, czyli takiej, której w danym miesiącu sprzedano najwięcej.

Na podstawie wykonanego zestawienia utwórz wykres kolumnowy ilustrujący wielkości sprzedaży najpopularniejszych odmian jabłek w poszczególnych miesiącach.

Pamiętaj o czytelnym opisie wykresu – na osi X umieść dla każdego miesiąca jego nazwę połączoną z nazwą najbardziej popularnej odmiany w tym miesiącu, dodaj opis osi Y i tytuł wykresu.

Zadanie 7.4. (0–3)

Hurtownia ma system premiowania klientów hurtowych. Klient otrzymuje przy zakupie rabat, którego wysokość zależy od łącznej ilości jabłek zakupionych do tej pory przez tego klienta, wliczając w to jabłka zakupione w bieżącej transakcji.

Wysokość rabatu za każdy kilogram w bieżącej transakcji wynosi:

- 5 gr, jeśli klient dotychczas zakupił co najmniej 15 000 kg, ale mniej niż 20 000 kg
- 10 gr, jeśli klient dotychczas zakupił co najmniej 20 000 kg.

Podaj, w ilu transakcjach hurtownia udzieliła rabatu, oraz podaj łączną wartość tych rabatów w złotych.

Przykład:

Załóżmy, że przed 1.04.2022 klient z NIP 128-29-15-591 zakupił łącznie 10 000 kg jabłek, klient 192-09-72-275 nabył 14 900 kg, a klient 140-36-11-559 – kupił 19 900 kg. Wtedy dla przykładowych danych 1.04.2022:

2022-04-01	Jonagold	Z	128-29-15-591	470
2022-04-01	Jonagold	Z	192-09-72-275	410
2022-04-01	Jonagored	Z	140-36-11-559	242

- pierwszy klient, po dokonaniu transakcji 1.04.2022, będzie miał już 10 470 kg zakupionych jabłek i dla tej transakcji jeszcze nie należy się rabat
- drugi klient, po dokonaniu transakcji 1.04.2022, będzie miał już 15 310 kg zakupionych jabłek, czyli podczas tej transakcji otrzyma 5 gr rabatu na każdy kilogram kupowanych tego dnia jabłek ($5 \text{ gr} * 410 = 20,50 \text{ zł}$ rabatu)
- trzeci klient, po dokonaniu transakcji 1.04.2022, będzie miał już 20 142 kg zakupionych jabłek i podczas tej transakcji otrzyma 10 gr rabatu za każdy kilogram ($10 \text{ gr} * 242 = 24,20 \text{ zł}$ rabatu).



Do oceny oddajesz:

- plik tekstowy `wyniki7.txt` – zawierający odpowiedzi do poszczególnych zadań (odpowiedź do każdego zadania powinna być poprzedzona jego numerem)
- plik zawierający wykres do zadania 7.3. o nazwie
- plik(i) zawierający(e) komputerową realizację Twoich obliczeń o nazwie(-ach) (uwaga: brak tych plików jest równoznaczny z brakiem rozwiązania zadania):

.....

Zadanie 8. Rejestr wykroczeń

W trzech plikach tekstowych o nazwach: `kierowcy.txt`, `taryfikator.txt`, `rejestr.txt`, zapisano dane związane z przekroczeniem dozwolonych prędkości pojazdów na pewnej trasie w okresie 2023-01-01 – 2023-12-30 (wszystkie dane są fikcyjne i wygenerowane na potrzeby zadania).

Pierwszy wiersz każdego z plików jest wierszem nagłówkowym, a dane w wierszach rozdzielono znakiem średnika.

Plik o nazwie `kierowcy.txt` zawiera informacje o 1000 osobach będących właścicielami samochodów. W każdym wierszu znajduje się:

`IdOsoby` – identyfikator kierowcy
`Imie` – imię
`Nazwisko` – nazwisko
`NrRejestracyjny` – numer rejestracyjny samochodu.

Przykład:

```
IdOsoby;Imie;Nazwisko;NrRejestracyjny
1;Echo;Ayala;FVX4190
2;Nolan;Stein;DUG5882
3;Lee;Joseph;TBG6984
```

Plik o nazwie `taryfikator.txt` zawiera informacje o 6 rodzajach wykroczeń związanych z przekroczeniem prędkości. W każdym wierszu znajdują się:

`IdWykroczenia` – identyfikator wykroczenia
`Wykroczenie` – opis wykroczenia
`Punkty` – liczba punktów karnych za dane wykroczenie
`Kwota` – kwota mandatu, jaką należy zapłacić za to wykroczenie.

Przykład:

```
IdWykroczenia;Wykroczenie;Punkty;Kwota
1;Przekroczenie predkosci do 10 km/h;0;50
2;Przekroczenie predkosci od 11 do 20 km/h;2;100
3;Przekroczenie predkosci od 21 do 30 km/h;4;200
4;Przekroczenie predkosci od 31 do 40 km/h;6;300
5;Przekroczenie predkosci od 41 do 50 km/h;8;400
6;Przekroczenie predkosci od 51 km/h;10;500
```

Plik o nazwie `rejestr.txt` zawiera 5000 zarejestrowanych wykroczeń związanych z przekroczeniem prędkości. W każdym wierszu znajdują się:

`IdZdarzenia` – identyfikator zdarzenia
`Data` – data zdarzenia w formacie `rrrr-mm-dd`
`IdOsoby` – identyfikator kierowcy
`IdWykroczenia` – identyfikator wykroczenia.

Przykład:

```
IdZdarzenia;Data;IdOsoby;IdWykroczenia  
1;2023-01-01;617;1  
2;2023-01-01;956;4
```

Z wykorzystaniem danych zawartych w podanych plikach oraz dostępnych narzędzi informatycznych podaj odpowiedzi do zadań 8.1.–8.3. Odpowiedzi zapisz w pliku `wyniki8.txt`, a każdą z nich poprzedź numerem odpowiedniego zadania.

Zadanie 8.1. (0–2)

Podaj imię i nazwisko kierowcy, dla którego suma kwot za wszystkie mandaty była największa, oraz podaj tę największą sumę. Jest tylko jeden taki kierowca.

Zadanie 8.2. (0–2)

W którym miesiącu kierowcy otrzymali najmniej punktów karnych (łącznie) za wykroczenia polegające na przekroczeniu dozwolonej prędkości o więcej niż 20 km/h (wykroczenia o identyfikatorach od 3 do 6)? Podaj miesiąc oraz łączną liczbę punktów karnych z tego miesiąca.

Zadanie 8.3. (0–3)

Wykonaj zestawienie numerów rejestracyjnych samochodów wraz z imionami i nazwiskami ich właścicieli, którzy nie figurują w rejestrze wykroczeń. Zestawienie posortuj alfabetycznie według numerów rejestracyjnych samochodów.

Do oceny oddajesz:

- plik tekstowy `wyniki8.txt` – zawierający odpowiedzi do poszczególnych zadań (odpowiedź do każdego zadania powinna być poprzedzona jego numerem)
- plik(i) zawierający(-e) komputerową realizację Twoich obliczeń o nazwie(-ach) (uwaga: brak tych plików jest równoznaczny z brakiem rozwiązania zadania):

.....
.....



BRUDNOPIS (*nie podlega ocenie*)



INFORMATYKA

Poziom rozszerzony

Formuła 2023



INFORMATYKA

Poziom rozszerzony

Formuła 2023



INFORMATYKA

Poziom rozszerzony

Formuła 2023

